

دستخط نگران کار

Booklet Serial No.

## مولانا آزاد نیشنل اردو یونیورسٹی

انٹرنس ٹسٹ برائے ڈی ایل۔ ایڈ 2017

D. El.Ed. Entrance Test 2017

کتابچہ پرچہ سوالات Question Paper Booklet

نمبرات : 100

Hall Ticket No.

وقت : دو گھنٹے

OMR Serial No.

## امیدواروں کے لیے ہدایات

نوٹ: یہ کتابچہ چار حصوں پر مشتمل ہے۔ حصہ 'الف' (A) عام معلومات (General Knowledge) 'عمومی اردو' (General Urdu) 'عمومی انگریزی' (General English) اور حصہ 'ب' (B) تدریسی رجحان (Teaching Aptitude) اور عمومی ذہنی آزمائش (General Mental Ability) پر مشتمل ہے۔

1. اوپر فراہم کی گئی جگہ پر امیدوار اپنا OMR اور ہال ٹکٹ نمبر لکھیں۔ اس کے علاوہ کتابچے میں کسی بھی صفحے پر ہال ٹکٹ نمبر، OMR نمبر یا اپنا نام نہ لکھیں۔

2. یہ پرچہ سوالات کل 12 صفحات پر مشتمل ہے۔ اگر اس کتابچے میں صفحات کم ہوں یا اس کی ترتیب میں کوئی غلطی ہو تو جوابات لکھنے سے پہلے ہی نگران کار سے اسے تبدیل کروالیں۔

3. اس کتابچے میں جملہ 100 معروضی سوالات ہیں۔ ہر سوال کے نیچے 4 متبادل (A) (B) (C) (D) جوابات دیے گئے ہیں۔ سوال کے صحیح جواب کا انتخاب کیجیے۔ پھر OMR جوابی بیاض میں اپنے منتخب کردہ جواب کے دائرے کو صرف Blue / Black Ballpoint Pen سے گہرا کیجیے۔

4. امیدوار کو نمبرات صرف OMR جوابی بیاض میں صحیح جواب دینے پر دیے جائیں گے۔ اگر اس کتابچے میں امیدوار نے جواب پر نشان لگایا ہو لیکن OMR میں دائرے کو گہرا نہ کیا ہو تو ایسی صورت میں امیدوار کو کوئی نمبر نہیں ملے گا۔

5. اگر ایک سے زیادہ دائروں کو گہرا کیا گیا ہو تو اس سوال کے نمبر نہیں ملیں گے۔

6. غلط جواب پر کوئی Negative Marks نہیں ہے۔

7. انٹرنس ٹسٹ کے اختتام پر امیدوار کتابچہ پرچہ سوالات اپنے ساتھ لے جاسکتے ہیں۔

☆☆☆

**حصہ الف (Part - A)**  
**عام معلومات - General knowledge**

1. ہندوستان کے پہلے وزیر تعلیم کون تھے؟  
(A) مولانا ابوالکلام آزاد (B) ڈاکٹر راجندر پرساد (C) ڈاکٹر ذاکر حسین (D) ڈاکٹر فخر الدین علی احمد
2. اقلیتوں کو ادارے قائم کرنے اور اسے چلانے کا حق ہندوستانی آئین کے کس دفعہ (Article) سے حاصل ہے؟  
(A) 28 (B) 29 (C) 30 (D) 31
3. سعودی عرب ملک کا طرز حکومت کیسا ہے؟  
(A) عامرانہ (B) جمہوری (C) ڈکٹیٹر شپ (D) بادشاہی
4. مولانا آزاد اردو یونیورسٹی کا قیام کس سال ہوا؟  
(A) 1998 (B) 1999 (C) 2000 (D) 2008
5. اقوام متحدہ (UNO) کا قیام کس جنگ کے بعد عمل میں آیا؟  
(A) انقلاب فرانس (B) انقلاب روس (C) جنگ عظیم اول (D) جنگ عظیم دوم
6. سرسید احمد خان نے مچھن اینگلو اور نیشنل کالج کب قائم کیا؟  
(A) 1872 (B) 1873 (C) 1875 (D) 1876
7. ہمارے ملک ہندوستان کے موجودہ نائب صدر جمہوریہ کون ہیں؟  
(A) شری ہاشم انصاری (B) شری محمد حامد انصاری (C) شری راجناتھ سنگھ (D) شری مختار عباس نقوی
8. کتاب ”شاہ نامہ“ کے مصنف کون ہیں؟  
(A) ابوالفضل (B) مولانا آزاد (C) فردوسی (D) علامہ اقبال
9. ذیل میں سے کون سی تصنیف سرسید احمد خاں کی ہے؟  
(A) اسباب بغاوت ہند (B) تاریخ فرشتہ (C) اکبر نامہ (D) غبار خاطر
10. NCTE کا پورا نام کیا ہے؟  
(A) National Council for Technical Education  
(B) New Council for Technical Education  
(C) New Concept for Teacher Education  
(D) National Council for Teacher Education

11. ہندوستان کا قومی پرندہ کون ہے؟  
 (A) مور (B) طوطا (C) کبوتر (D) اباتیل
12. ذیل میں سے بیماریوں کا وہ گروپ چینیہ جو چھڑوں سے پھیلتا ہے؟  
 (A) ڈینگو، ملیریا، چکن گونیا (B) ملیریا، ہیضہ، میعادی بخار  
 (C) ملیریا، ڈینگو، ہیضہ (D) ملیریا، چکن گونیا، میعادی بخار
13. کس ملک کے سائنس دانوں نے سب سے پہلے ہائیڈروجن بم بنایا تھا؟  
 (A) جاپان (B) فرانس  
 (C) امریکہ (D) برطانیہ
14. وٹامن اے (Vitamin A) کی کمی سے کون سی بیماری ہوتی ہے؟  
 (A) ریکٹس (B) رتوندھی  
 (C) پیری پیری (D) فلیریا
15. ہندوستان میں کس کو میزائل مین (Missile Man) کے نام سے جانا جاتا ہے؟  
 (A) اے۔ پی۔ جے۔ عبدالکلام (B) ابوالکلام آزاد  
 (C) ایم۔ آر۔ سرینواسن (D) ہومی جے بھابھا
16. ارونا چل پردیش کی راجدھانی کون سی ہے؟  
 (A) امپھال (B) گواہاٹی  
 (C) اٹانگر (D) شیلانگ
17. دلی کا لال قلعہ کس مغل بادشاہ نے بنوایا؟  
 (A) اکبر (B) شاہجہاں  
 (C) جہانگیر (D) اورنگ زیب
18. ذیل میں سے کون سا سیارہ سورج کے سب سے نزدیک ہے؟  
 (A) نیپٹون (Neptune) (B) مریخ (Mars)  
 (C) یورینس (Uranus) (D) عطارد (Mercury)
19. راجیو گاندھی کھیل ایوارڈز 2016 ذیل میں سے کس کو دیا گیا؟  
 (A) سوہیل کمار (B) ایم۔ ایس۔ دھونی  
 (C) پی۔ وی۔ سندھو (D) ثانیہ مرزا
20. 2015 کا دادا صاحب پھالکے ایوارڈ کس کو دیا گیا؟  
 (A) دلپ کمار (B) منوج کمار  
 (C) لیش چوڑا (D) امتیا بھیکن

## عمومی اردو - General Urdu

21. کلمہ کی کتنی قسمیں ہوتی ہیں؟  
 (A) 3 (B) 4 (C) 5 (D) 6
22. فعل کی جمع کیا ہے؟  
 (A) فاعل (B) افعال (C) فعلین (D) افعال
23. نعت کسے کہتے ہیں۔  
 (A) اللہ کی تعریف میں کہی گئی نظم (B) امام حسینؑ کی تعریف میں کہی گئی نظم  
 (C) بی بی فاطمہؑ کی تعریف میں کہی گئی نظم (D) حضور ﷺ کی تعریف میں کہی گئی نظم
24. ہمسایہ کے معنی کیا ہیں؟  
 (A) دشمن (B) پڑوسی (C) دوست (D) آدمی
25. ان میں سے کون اردو کے مشہور مرثیہ نگار ہیں؟  
 (A) میر انیس (B) سر سید احمد خان (C) منشی پریم چند (D) مرزا غالب
26. کبیر کی ضد کیا ہے؟  
 (A) اعلیٰ (B) ادنیٰ (C) صغیر (D) ان میں سے کوئی نہیں
27. مسدس میں کتنے مصرعے ہوتے ہیں؟  
 (A) 2 (B) 4 (C) 6 (D) 8
28. ”دور کے ڈھول سہانے لگتے ہیں“ اس کا کیا مطلب ہوتا ہے؟  
 (A) دور سے ہر چیز اچھی لگتی ہے (B) زندگی کا تجربہ کرنا  
 (C) احسان کر کے اسے جتنا نہیں چاہیے (D) کہیں کانہ رہنا
29. اندھیرا کا مترادف لفظ کیا ہے؟  
 (A) تاریکی (B) روشنی (C) مفلسی (D) ان میں سے کوئی نہیں
30. ”آتا ہے جھکو یاد گزرا ہوا زمانے“ اس جملے میں کون سا لفظ غلط استعمال ہوا ہے۔  
 (A) جھکو (B) ہوا (C) زمانے (D) گزرا



**حصہ ب (Part - B)**  
**تدریسی رجحان - Teaching Aptitude**

41. ایک معلم کلاس میں اپنے طلباء کو اپنی طرف متوجہ نہیں کر پا رہا ہے تب وہ:
- (A) اپنے طریقہ تدریس کی جانچ کرے اور سدھار کرے (B) اپنے عہدہ سے استعفیٰ دے دے  
(C) اپنے طلباء کی کمیاں نکالے (D) املا لکھوانا شروع کر دے۔
42. اگر امتحان میں طلباء کو کامیابی نہیں ملتی ہے تو یہ کیس کی ہے؟
- (A) معلم کی (B) طلباء کی  
(C) درسی کتاب کی (D) ان میں سے سبھی
43. اگر کچھ طلباء اسکولی احاطہ میں آپ سے بدسلوکی کرتے ہیں تو آپ:
- (A) پرنسپل کو رپورٹ کریں گے (B) ان کے والدین کو رپورٹ کریں گے  
(C) ان طلباء کے خلاف دوسرے اساتذہ کو تیار کریں گے (D) اپنے کردار اور قابلیت کے ذریعہ ان کے کردار کو بہتر بنائیں گے
44. اگر طالب علم کے کسی سوال کا جواب معلم نہیں دے پا رہا ہو تب معلم۔
- (A) طالب علم کو ڈانٹ ڈپٹ کرے گا (B) کہیں گے۔ دیکھنے کے بعد جواب دیں گے  
(C) کہیں گے۔ کہ سوال غلط ہے (D) ان میں سے کوئی نہیں
45. کس طریقہ تدریس کے ذریعہ طلباء کی زیادہ سے زیادہ شراکت ممکن ہے؟
- (A) بیانیہ طریقہ (B) بحث و مباحثہ کا طریقہ  
(C) توضیح و تشریح کا طریقہ (D) ادارکاری کا طریقہ
46. تدریس کی موثریت کا انحصار ہوتا ہے؟
- (A) معلم کے مواد مضمون کے عبور پر (B) معلم کی قابلیت پر  
(C) معلم کی شخصیت پر (D) معلم کی لکھاؤٹ پر
47. آپ ایک اچھے استاد بننا چاہتے ہیں؟
- (A) روزی روٹی کمانے کے لیے (B) مسائل کا حل تلاش کرنے کے لیے  
(C) طلباء کو معلومات فراہم کرنے کے لیے (D) سماج کی اصلاح کرنے کے لیے
48. ایک اچھے سوالنامہ کی خصوصیات نہیں ہے۔
- (A) بھروسہ مندی (Reliability) (B) معروضیت (Objectivity)  
(C) موضوعیت (Subjectivity) (D) Validity

49. تدریس کا اہم مقصد ہے؟  
 (A) طلباء کے اندر قوت فکر پیدا کرنا  
 (B) طلباء کو اچھے نوٹس لکھنا  
 (C) امتحان میں پاس ہونے کا ہنر سکھانا  
 (D) نصاب سے متعلق معلومات فراہم کرنا
50. تعلیم کا بنیادی مقصد  
 (A) رجحان میں تبدیلی  
 (B) عقیدہ میں تبدیلی  
 (C) رویہ میں تبدیلی  
 (D) برتاؤ میں تبدیلی
51. بہتر تدریسی نتیجہ کے لیے ضروری ہے۔  
 (A) اجتماعی علمی سرگرمیاں  
 (B) تجزیاتی ذہن کا استعمال  
 (C) ذہانت کا بھرپور استعمال  
 (D) ان میں سے سبھی
52. معلم کی بنیادی ذمہ داری ہے؟  
 (A) ایک اچھا شہری بنانا  
 (B) سہولیات کی باعث بننا  
 (C) اچھے نمبرات کا فراہم کرنا  
 (D) فرد کی اعلیٰ تربیت
53. کس فلسفی نے معلم کو ایک مالی (Gardener) سے تعبیر کیا ہے؟  
 (A) فروبیل  
 (B) کلپاٹرک  
 (C) مانٹیسری  
 (D) گاندھی جی
54. طلباء کو محرک Motivate کرنے کا بہتر طریقہ ہے۔  
 (A) ٹوکنا  
 (B) غلطی بتانا  
 (C) تعریف کرنا  
 (D) ان میں سے کوئی نہیں
55. ایک تربیت یافتہ معلم ..... معیار کو اپناتا ہے۔  
 (A) تانا شاہی سماج کے  
 (B) جمہوری سماج کے  
 (C) آزادانہ سماج کے  
 (D) سبھی
56. ایک اچھا معلم فوجیت دیتا ہے۔  
 (A) وقت پر نصاب کی تکمیل کو  
 (B) نصاب اور ہم نصابی مشغولیت کی تکمیل کو  
 (C) طلباء سے ربط کو  
 (D) اسکول کی ضرورتوں کی تکمیل کو
57. معذور و غیر معذور طلباء کو ایک ساتھ تعلیم فراہم کرنا کہلاتا ہے۔  
 (A) تجزیاتی تعلیم  
 (B) سماجیاتی تعلیم  
 (C) جمہوری تعلیم  
 (D) شمولیاتی تعلیم

58. ایک اچھے معلم کو تدریس کے طریقہ کا علم ضروری ہے کیونکہ اس سے
- (A) تدریس موثر ہوتی ہے (B) تدریس آسان ہوتی ہے  
(C) تدریس کم وقت میں ہو جاتی ہے (D) طلباء میں نظم و ضبط برقرار رہتا ہے
59. طلباء معلم کی سب سے زیادہ عزت و احترام کریں گے جب:
- (A) وہ اپنی ذمہ داریوں کو پورا کرے (B) وہ جب نظم و ضبط قائم کرے  
(C) وہ طلباء پر غالب ہو (D) وہ طلباء کے ساتھ دوستانہ سلوک کرے۔
60. DIET مخفف ہے۔
- (A) Departmental Institute of Education & Training  
(B) District Institute of Education & Training  
(C) Director Institute of Education & Training  
(D) Divisional Institute of Education & Taining
61. تربیت یافتہ معلم کو بھی دوران ملازمت تربیت کی ضرورت ہوتی ہے۔
- (A) نئے لوگوں سے ملاقات کرنے کے لیے (B) جدید تحقیق سے آگاہ ہونے کے لیے  
(C) اسکول سے چھٹی لینے کے لیے (D) ان میں سے سبھی
62. ایک اعلیٰ معلم وہ ہے جو:
- (A) اسکول میں پورا وقت دیتا ہو (B) نظم و ضبط کی پابندی کرتا ہو  
(C) طالب علم کو قیادت فراہم کرتا ہو (D) طلباء کی ہمہ جہت ترقی میں دلچسپی رکھتا ہو
63. سیکھنے کا بنیادی عنصر ہے۔
- (A) سیکھنے کے لیے آمادگی (B) محرکہ  
(C) سازگار ماحول (D) یہ سبھی
64. ان میں سے کس کے بارے میں ”وردھا تعلیمی کانفرنس“ نے سفارش کیا تھا؟
- (A) تعلیم نسواں (B) لازمی فوجی تعلیم  
(C) ابتدائی تعلیم کرافٹ کے ساتھ (D) ان میں سے کوئی نہیں
65. ہندوستان میں RTE کا نفاذ عمل میں آیا۔
- (A) یکم اپریل 2010 (B) یکم جولائی 2009  
(C) یکم جولائی 2012 (D) یکم اپریل 2012



66. ہندوستانی آئین میں دفعہ 45 کا تعلق ہے۔  
 (A) 6 سے 14 سال کے عمر کے سبھی بچوں کے لیے مفت تعلیم (B) سبھی شہریوں کے لیے مفت علاج  
 (C) A اور B دونوں (D) ان میں سے کوئی نہیں
67. معلم کو طلباء کے ساتھ کیسا برتاؤ کرنا چاہیے۔  
 (A) حسب معمول (B) والد کی طرح  
 (C) دوستانہ (D) بڑوں کی طرح
68. ایک اچھا معلم وہ ہے جس کے پاس علم ہو۔  
 (A) مضمون کا (B) سماج کا  
 (C) طلباء کا (D) ان سبھی کا
69. بچہ کا پہلا اسکول ہوتا ہے؟  
 (A) فیملی (Family) (B) دوست  
 (C) سماج (D) اسکول
70. تعلیم بذریعہ کھیل کو رائج کیا۔  
 (A) روسونے (B) فروبیل  
 (C) گاندھی جی (D) علامہ اقبال نے

### عمومی ذہنی آزمائش - (General Mental Ability)

- I اعداد کی سیریز کو مکمل کیجیے۔
71. 3, 5, 8, 12 .....  
 (A) 17 (B) 16 (C) 19 (D) 20
72. 7, 9, 12, 16 .....  
 (A) 22 (B) 21 (C) 19 (D) 20
73. 384, 192, 96, 48 .....  
 (A) 36 (B) 24 (C) 28 (D) 32
- II سوالیہ علامت کی جگہ پر مناسب ترین لفظ لکھیے۔
74. ....؟ کھلاڑی :: گلدان : گل  
 (A) کھیل (B) میدان (C) کیپٹن (D) ٹیم

75. ....؟ برف :: گرمی : آگ  
(A) ٹھنڈا (B) بارش (C) بادل (D) ان میں سے کوئی نہیں

76. ....؟ درزی :: : لکڑی : بڑھی  
(A) سلائی (B) کپڑا (C) لباس (D) سجاوٹ

### -III صحیح رشتہ پہچانیے۔

77. فرقان نے ایک تصویر کو دیکھا تو کہا کہ ”اس لڑکے کا والد میری ماں کا اکلوتا بیٹا ہے“ بتائے تصویر میں کون ہے؟  
(A) فرقان (B) فرقان کا بھائی (C) فرقان کے والد (D) فرقان کا بیٹا

78. A اور B ‘ C کے بچے ہیں اور B, C کا والد ہے لیکن B ‘ C کا بیٹا نہیں ہے۔ B اور C میں کیا رشتہ ہے  
(A) بیٹی اور باپ (B) بھائی اور بہن (C) بھتیجہ اور چاچا (D) بھتیجی اور چاچا

79. میرے چاچا کی والدہ کے شوہر سے میرا کیا رشتہ ہوگا؟  
(A) نانا (B) چاچا (C) دادا (D) ماما

### IV غیر متعلق لفظ شناخت کیجیے۔


80. (A) یورینس (B) چاند (C) مرکبوری (D) نیپچون  
81. (A) سمنٹ (B) بالو (C) اینٹ (D) دیوار  
82. (A) آنکھ (B) کان (C) حلق (D) ناک  
83. (A) حیدرآباد (B) امرتسر (C) بھوپال (D) لکھنؤ

### -V مطلب بیان کیجیے۔

84. عیدالاضحیٰ میں کتنے حروف ساکن ہیں؟

(A) 1 (B) 2 (C) 3 (D) 4

85. معلم اور طالب علم انسان ہیں۔ اس کو ظاہر کرنے والی شکل کون سی ہے؟



-VI وہ عدد کون سا؟

.86 350 سنٹی میٹر کو میٹر میں کیسے لکھیں گے؟

(A) 3.5 میٹر (B) 3.50 میٹر (C) .325 میٹر (D) 0.0325 میٹر

.87 500 کا 2.5 فیصد کتنا ہوگا؟

(A) 10.5 (B) 12.5 (C) 2.25 (D) 2.5

.88 2/5 میٹر کو سینٹی میٹر میں بدلنے پر

(A) 40 (B) 45 (C) 50 (D) 55

-VIII درج ذیل حالات میں آپ کیا کریں گے؟

.89 اگر کسی چور نے آپ کا پرس چوری کر لیا تو

(A) وہیں چیخ پکار کریں گے (B) خاموشی سے وہاں سے چلے جائیں گے

(C) فوراً پولیس کو اطلاع کریں گے (D) ان میں سے کچھ بھی نہیں کریں گے

.90  $5x + 7x = 60$  ہو تو X کی قیمت کیا ہوگی؟

(A) 4 (B) 5 (C) 6 (D) 7

.91 چونکہ ان میں مناسب علامت لکھیے۔

$$(24 + 3) \div 9 \square (3 \times 2)$$

(A) &gt; (B) &lt; (C) = (D) ان میں سے کوئی نہیں

.92  $(? \div 3) \times 5 = 60$ 

(A) 33 (B) 12 (C) 22 (D) 36

.93 ناہید ایک دن میں 12 گلاس پانی پیتی ہے۔ اگر ایک گلاس میں 250 ملی لیٹر پانی آتا ہے تو وہ 30 دنوں میں کتنے لیٹر پانی

پی لے گی؟

(A) 70 لیٹر (B) 65 لیٹر (C) 90 لیٹر (D) 75 لیٹر

$$2 + 2 \div 2 = \square$$

(A) 1 (B) 2 (C) 3 (D) 4

ذیل کے جملے مکمل کیجیے:

.95 نہ نومن تیل ہوگا نہ رادھا.....؟

(A) ناچے گی (B) کھائیں گی (C) گائے گی (D) پکائے گی

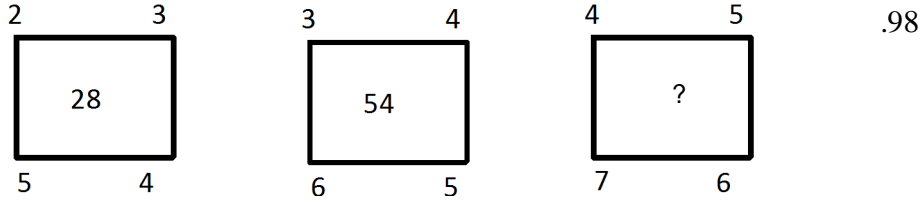
96. نیکی کر دیا میں .....؟

- (A) پھینک (B) رکھ (C) ڈال (D) بہا

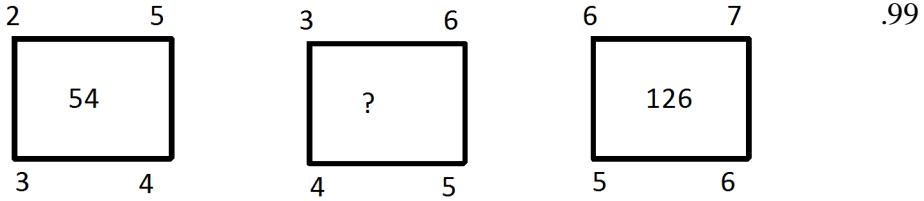
97. گھر کی مرغی دال .....؟

- (A) کی طرح (B) برابر (C) جیسی (D) ان میں سے کوئی نہیں

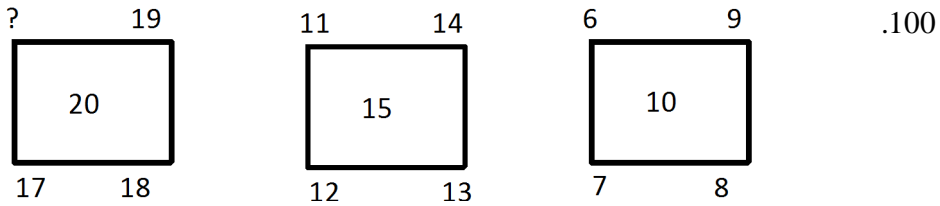
IX ذیل کے مربعوں کے باہر لکھے ہوئے چار اعداد کا مربع کے اندر لکھے ہوئے عدد سے خاص تعلق ہے۔ اس تعلق کی بنیاد پر سوالیہ نشان کی جگہ کون سا عدد آئے گا۔



- 94 (D) 92 (C) 90 (B) 88 (A)



- 88 (D) 86 (C) 84 (B) 82 (A)



- 16 (D) 14 (C) 12 (B) 10 (A)



Part - A (حصہ - الف)  
 عام معلومات - General knowledge

1. آئین اکبری کے مصنف کون ہیں؟  
 (A) اقبال (B) ابوالفضل (C) ولی (D) اکبر
2. ہندوستان کے موجودہ نائب صدر جمہوریہ کون ہیں؟  
 (A) مرلی منوہر جوشی (B) پرنب کھرجی (C) نجیب جنگ (D) حامد انصاری
3. یونیسکو (UNESCO) کا ہیڈ کوارٹر کہاں ہے؟  
 (A) پیرس (B) جینوا (C) ہیگ (D) واشنگٹن
4. کرکٹ کا عالمی کپ 2015 جس ملک نے جیتا؟  
 (A) ہندوستان (B) نیوزی لینڈ (C) آسٹریلیا (D) جنوبی افریقہ
5. ہندوستانی دستوری کس دفعہ میں تعلیم کو بنیادی حق کے طور پر شامل کیا گیا ہے؟  
 (A) 19 (B) 20 (C) 21 (D) 24
6. اردو کے کس ناقد کو سرسوتی سمان عطا ہوا ہے؟  
 (A) شمیم حنفی (B) شمس الرحمن فاروقی (C) گوپی چند نارنگ (D) گیان چند جین
7. اقوام متحدہ (UNO) کا قیام کب ہوا؟  
 (A) 24 اکتوبر 1944 (B) 24 اکتوبر 1945 (C) 24 اکتوبر 1946 (D) 24 اکتوبر 1947
8. مندرجہ ذیل میں سرسید احمد خاں کی تصنیف کون سی ہے؟  
 (A) پیام تعلیم (B) الکتاب (C) اکبر نامہ (D) اسباب بغاوت ہند
9. ایران کی راجدھانی ہے؟  
 (A) تہران (B) قاہرہ (C) کابل (D) دہلی

10. 46 واں دادا صاحب پھالکے ایوارڈ مئی 2015 میں کس اداکار کو دیا گیا ہے؟
- (A) ایبتا بھچن (B) دلپ کمار  
(C) سلمان خان (D) ششی کپور
11. دھیان چند ٹرائی کا تعلق کس کھیل سے ہے؟
- (A) ہاکی (B) فٹ بال  
(C) کبڈی (D) کرکٹ
12. الیکٹران (Electron) کی کھوج کس سائنس داں نے کی تھی؟
- (A) رڈ فورڈ (B) جے۔ جے۔ تھامسن  
(C) جیمس جیڈوک (D) میڈم کسوڑی
13. اٹانگر کس ریاست کی راجدھانی ہے؟
- (A) میگھالیہ (B) منی پور  
(C) ارونا چل پردیش (D) میزورم
14. ہندوستان کے پہلے وزیر تعلیم کون تھے؟
- (A) جواہر لال نہرو (B) فخر الدین علی احمد  
(C) مولانا ابوالکلام آزاد (D) ڈاکٹر ذاکر حسین
15. ان میں سے کس کو میسائل مین (Missile Man) کہا جاتا ہے؟
- (A) ڈاکٹر لیش پال (B) ڈاکٹر ایم۔ ایس۔ سوامی ناتھن  
(C) ڈاکٹر ایم۔ ایم۔ جوشی (D) ڈاکٹر اے۔ پی۔ جے۔ عبدالکلام
16. آگرہ شہر کس نے بسایا؟
- (A) اکبر (B) سکندر لودھی  
(C) ابراہیم لودھی (D) شاہ جہاں
17. لوک سبھا کیلئے صدر جمہوریہ کتنے ممبر کو نامزد کر سکتا ہے؟
- (A) 02 (B) 10  
(C) 12 (D) 14
18. ”Wealth of Nations“ کے مصنف کون ہیں؟
- (A) مارشل (B) ایڈم اسمتھ  
(C) چانکیہ (D) امرتیا سین

19. وہ جگہ جہاں ۲۲ دسمبر کو سب سے بڑا دن اور سب سے چھوٹی رات ہوتی ہے؟

- (A) کولکتہ  
(B) میڈرڈ  
(C) میلپورن  
(D) ماسکو

20. DIET کا پورا نام ہے۔

- (A) District Institute of Education & Training  
(B) Develop Institute of Education & Training  
(C) Direct Interest in Education & Training  
(D) Dalit Institute of Education & Training

## جنرل اردو - General Urdu

21. لفظ 'اردو' کس زبان کا لفظ ہے؟

- (A) عربی (B) فارسی (C) ترکی (D) سنسکرت

22. ورق کی جمع کیا ہے؟

- (A) ورقا (B) ورقین (C) وراق (D) اوراق

23. 'اے۔ پی۔ جے' عبد الکلام ہندوستان کے مایہ ناز سپوت..... جملہ مکمل کیجیے۔

- (A) ہے (B) ہیں (C) ہوں گے (D) ان میں سے کوئی نہیں

24. "اردو ہمارا مادری زبان ہیں۔" اس جملے میں کون سے الفاظ غلط استعمال ہوئے ہیں؟

- (A) ہمارا اور زبان (B) اردو اور مادری (C) ہمارا اور ہیں (D) مادی اور ہیں

25. اردو کے کس شاعر کو "خدائے سخن" کہا جاتا ہے؟

- (A) غالب (B) اقبال (C) میر تقی میر (D) ذوق

26. 'اُستاد' مذکر ہو تو مونث کیا؟

- (A) اُستادن (B) اُستادی (C) اُستانی (D) اُستادنی

27. 'زمین آسمان کے قلابے ملانا' کا مطلب کیا ہے؟

- (A) زمین سے آسمان تک سفر کرنا  
(B) زمین پر رہتے ہوئے آسمان کو دیکھنا  
(C) خوب غیبت کرنا  
(D) خوب تعریف کرنا



28. زندان کے کیا معنی ہے؟  
 (A) زندگی (B) زندہ لوگ (C) شفا خانہ (D) قید خانہ
29. اُردو کے کس بڑے شاعر کو نوبل ایوارڈ سے نوازا گیا؟  
 (A) اقبال (B) غالب (C) جگن ناتھ آزاد (D) کسی کو بھی نہیں
30. 'ساقی' کسے کہتے ہیں؟  
 (A) شراب پلانے والے کو (B) شراب تیار کرنے والے کو  
 (C) شراب کی دوکان چلانے والے کو (D) شراب پینے والے کو

### عمومی انگریزی - General English

31. All the ..... was wrong.  
 A) Informations B) Information  
 C) Information's D) none of these
32. This is the only thing ..... I want.  
 A) as B) who  
 C) that D) whose
33. That rule is applicable ..... every one.  
 A) in B) on  
 C) for D) to
34. I shall be ..... here.  
 A) sits B) sit  
 C) sitting D) sat
35. How many kinds of verb are there?  
 A) two B) three  
 C) four D) five
36. 'I write a letter'. The passive voice is  
 A) A letter is written by me B) A letter was written by us  
 C) A letter being written by us D) A letter has been written by me
37. Ram said, 'I saw him.' Indirect form of his sentence is:  
 A) Ram said that I saw him B) Ram said that he had seen him  
 C) Ram said that I see him D) Ram said that he saw him

38. What is the Antonyms of "Exterior"  
 A) Internal B) Inner  
 C) Inward D) Interior
39. Choose the plural of syllabus.  
 A) Syllabi B) Syllabuses  
 C) Both A & B D) None of these
40. Pick out the collective Noun?  
 A) Man B) Group of Persons  
 C) Girl D) Anand

### Part - B (حصہ - ب)

#### Teaching Aptitude - تدریسی رجحان

41. ایک معلم کا سب سے اہم کام ہے؟  
 (A) تدریس کرنا  
 (B) بچوں میں نظم و ضبط بنانا  
 (C) بچوں کو فائدہ پہنچانا  
 (D) بچوں کی ترقی میں مدد کرنا
42. تدریسی عمل میں سب سے اہم کون ہے؟  
 (A) حکومت  
 (B) سماجی تعلقات  
 (C) والدین و استاد کے تعلقات  
 (D) استاد و طلباء کے تعلقات
43. طلباء اخلاقی تعلیم حاصل کرتے ہیں؟  
 (A) اچھی کتابوں کو پڑھنے سے  
 (B) بڑوں کی عزت کرنے سے  
 (C) سرپرستوں کے ذریعہ اچھی مثال پیش کرنے سے  
 (D) استاد کے اچھے طور طریقے سے
44. تعلیمی سطح کو اونچا اٹھانے کے لئے:  
 (A) نئے اسکول کھولنے چاہئے  
 (B) غیر تربیت یافتہ معلم کو ہٹا دینا چاہئے  
 (C) تربیت یافتہ معلم کو تقرر کرنا چاہئے  
 (D) اچھی عمارت کی تعمیر کروانی چاہئے
45. جیسے ہی آپ پڑھنے کے لئے بیٹھے ہیں کہ ٹیلی فون کی گھنٹی بجتی ہے تو آپ کیا کریں گے:  
 (A) ٹیلی فون نہیں ریسپونڈ کریں گے  
 (B) ریسپونڈ نہ کریں گے  
 (C) ٹیلی فون کو دوسرے کمرے میں لگا دیں گے  
 (D) ٹیلی فون سننا پسند کریں گے شاید کوئی ضروری بات ہو

46. ایک معلم خاص طور پر جواب دہ ہوتا ہے؟  
 (A) ہیڈ مدرس کو  
 (B) گارجین کو  
 (C) معاشرہ اور طلبا کو  
 (D) حکومت کو
47. معلم کے کام کرنے کی صلاحیت کو بڑھایا جاسکتا ہے؟  
 (A) اچھی تنخواہ دے کر  
 (B) پر مشورہ دے کر  
 (C) معلم کے کام کی تعریف کر کے  
 (D) اسکول انتظامیہ کے ذریعہ سختی کر کے
48. آپ کے حساب سے تدریس کیسا پیشہ ہے؟  
 (A) موجودہ وقت میں گھائے کا پیشہ ہے  
 (B) موجودہ وقت میں بھی اعلیٰ پیشہ ہے  
 (C) اطمینان و سکون کا پیشہ ہے  
 (D) فائدہ کا پیشہ ہے
49. طلباء میں کردار سازی کے لئے آپ کیا کریں گے؟  
 (A) طلباء کو اسکی تربیت  
 (B) انکے والدین کو اس طرف کام کرنے کے لئے کہیں گے  
 (C) اپنے ذاتی کردار سے اعلیٰ مثال پیش کریں گے  
 (D) طلباء کو اچھے کام کے لئے حوصلہ افزائی کریں گے
50. ایک معلم کو ہونا چاہیئے؟  
 (A) ایماندار  
 (B) محنتی  
 (C) کام کرنے والا  
 (D) ان میں سبھی
51. ایک معلم کے کردار و صلاحیت کی صحیح پہچان کرتے ہیں؟  
 (A) طلباء  
 (B) انکے ساتھ کام کرنے والے دیگر اساتذہ  
 (C) پرنسپل  
 (D) معاشرہ کے نامور لوگ
52. اسکول میں بڑھتی ہوئی نظم و ضبط کی دشواریوں کو کم کیا جاسکتا ہے؟  
 (A) طلباء کی تعداد کم کر کے  
 (B) نئے قانون بنا کر  
 (C) طلباء کو زیادہ سے زیادہ کام دے کر  
 (D) طلباء کی صحیح رہنمائی کر کے
53. ایک معلم کو اپنے اس شاگرد پر فخر محسوس کرنا چاہیئے جو  
 (A) طلباء کے کردار سازی میں مدد کرتا ہے  
 (B) تجارت میں کافی پیسہ کماتا ہے  
 (C) سیاست میں کامیاب ہو رہا ہے  
 (D) فلموں میں کامیاب ہو رہا ہے
54. ایک طالب علم درجہ میں کافی خوف زدہ رہتا ہے آپ کیا کریں گے؟  
 (A) سختی سے اس کی وجہ جانیں گے  
 (B) ہیڈ مدرس کو اسکی اطلاع کریں گے  
 (C) پیار محبت سے اسکی حوصلہ افزائی کریں گے  
 (D) گارجین کو اطلاع کریں گے

55. اگر کسی طالب علم کو امتحان میں کسی سوال کا جواب نہیں آتا ہے تو آپ کیا کریں گے؟  
 (A) آگے بیٹھے طلباء سے پوچھنے کو کہیں گے (B) جواب بتادیں گے  
 (C) اساتذہ سے کچھ مدد کر دیں گے (D) خاموش رہیں گے
56. ایک طالب علم اکثر کلاس میں سوتا ہوا نظر آتا ہے۔ آپ کیا کریں گے؟  
 (A) اسے ڈانٹیں گے (B) اسے کلاس چھوڑ دینے کا مشورہ دیں گے  
 (C) اسکے سونے کی وجہہ کا پتہ کریں گے (D) اسے آگے پڑھنے کے لئے منع کر دیں گے
57. ایک معلم کے پسند کا وہ طالب علم ہوتا ہے جو  
 (A) اچھے فیملی کا ہو (B) تندرست ہو  
 (C) زیادہ بات مانتا ہو (D) بہت زیادہ محنتی ہو
58. کلاس کا ماحول خوشگوار تبھی ہو سکتا ہے جب  
 (A) نظم و ضبط سخت ہو (B) اچھی کہانیاں سنائی جائے  
 (C) استاد اور طلباء کے بیچ اچھے تعلقات ہوں (D) صرف طلباء کی مدد ہو
59. اچھے طلباء کی حوصلہ افزائی کے لئے  
 (A) انکی تعریف کی جائے (B) انکو درجہ میں ذمہ داری کا کام دیا جائے  
 (C) انکے ساتھ دوستانہ رویہ اختیار کیا جائے (D) A,B,C تینوں
60. آپکے ذریعہ پڑھایا گیا عنوان اگر طلباء کو سمجھ میں نہیں آیا تو آپ کیا کریں گے؟  
 (A) وقت برباد نہ کرتے ہوئے آگے بڑھ جائیں گے (B) اسے دوبارہ سمجھائیں گے  
 (C) اس پر مبنی سوالوں کے جواب لکھوادیں گے (D) اس عنوان کو چھوڑ دیں گے
61. طلباء کے ذریعہ پوچھے گئے سوال کا جواب اگر آپ کو نہیں معلوم ہے تو کیا کریں گے؟  
 (A) اگلے دن بتادیں گے (B) سوال کو ٹال دیں گے  
 (C) طلباء کو ڈانٹیں گے (D) جو اس وقت مناسب سمجھ میں آئے گا وہی جواب دیں گے
62. کچھ طلباء آپ سے خالی وقت میں کسی عنوان کو پڑھوانا چاہتے ہیں اس صورت میں آپ  
 (A) کلاس میں پڑھانے کو کہہ دیں گے (B) جیسے وقت ملے گا پڑھادیں گے  
 (C) گھر آ کر پڑھنے کو کہیں گے (D) کہیں گے مصروفیت کی وجہ سے نہیں پڑھائیں گے
63. ایک اچھے معلم کے لئے اطمینان بخش چیز ہے؟  
 (A) عزت (B) اعلیٰ عہدہ (C) دولت (D) مقبولیت

64. کلاس میں شور و غل کو روکنے کے لئے آپ کیا کریں گے؟  
 (A) بات مت کرو بار بار کہیں گے  
 (B) طلباء کی آواز سے بھی تیز آواز میں بولیں گے  
 (C) خاموشی سے ایک ایک بچہ پر نظر ڈالیں گے  
 (D) شور و غل کی پرواہ کئے بغیر پڑھانا شروع کر دیں گے
65. نصاب بناتے وقت کن باتوں کا دھیان رکھنا چاہئے۔  
 (A) طلباء کے ماحول کا  
 (B) تدریسی طریقہ کا  
 (C) تعلیم کے مقاصد کا  
 (D) مواد کا
66. اگر کوئی طالب علم اکثر کلاس میں دیر سے آتا ہے تو آپ کیا کریں گے؟  
 (A) اس سے دیر سے آنے کی وجہ دریافت کریں گے  
 (B) اس پر سختی کریں گے  
 (C) ایسے سرپرستوں پر سختی کریں گے  
 (D) اسے اسکول سے باہر کر دیں گے
67. کسی طالب علم کو سزا دیتے وقت آپ کے دل میں کیا ہونا چاہیے۔  
 (A) سزا کی وجہ سے طالب آئندہ غلطی نہ کرے  
 (B) طالب علم میں سدھار ہو  
 (C) طالب علم کو پریشانی ہو  
 (D) طالب علم کو اس کے ساتھیوں کے سامنے بے عزت کرنا
68. موثر تدریس کے لئے  
 (A) پرنسپل کو سخت ہونا چاہئے  
 (B) معلم کو محتبی ہونا چاہئے  
 (C) طلباء کو محتبی ہونا چاہئے  
 (D) ان میں سے سبھی
69. درجہ میں تدریس کے دوران اگر کوئی طالب علم بدسلوکی کرے تو آپ کیا کریں گے؟  
 (A) کلاس چھوڑ دیں گے  
 (B) اسے سمجھائیں گے  
 (C) سزا دیں گے  
 (D) پرنسپل کے پاس لے جائیں گے
70. آپ کے حساب سے تعلیم کا مقصد ہے؟  
 (A) طلباء کو ایک اچھا شہری بنانا  
 (B) طلباء کو جانکاری دینا  
 (C) طلباء میں اچھے بڑے میں تمیز کرنے کی صلاحیت پیدا کرنا  
 (D) ان میں سے سبھی

## ذہنی آزمائش -

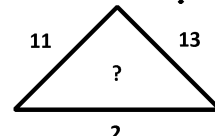
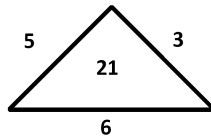
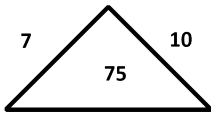
- I اعداد کی سیریز کو مکمل کیجیے۔
71. 1, 9, 25, .....  
 (A) 36 (B) 49 (C) 64 (D) 50
72. 2, 3, 5, 7, .....  
 (A) 9 (B) 8 (C) 11 (D) 13

- 27, 125, 343 ..... 73  
 49(A) 81 (B) 1029 (C) (D) ان میں سے کوئی نہیں

-II سوالیہ علامت کی جگہ پر مناسب ترین لفظ لکھیے۔

74. ....؟ وقت :: کلومیٹر : فاصلہ  
 (A) سکنڈ (B) منٹ (C) گھنٹہ (D) دن
75. گھونسلا : چٹیا :: .....؟ گھوڑا  
 (A) اصطلبل (B) گھر (C) غار (D) طویلہ
76. ....؟ مینڈک :: : پستانیہ : انسان  
 (A) رینگنے والا (B) جل تھلیہ (C) آبی (D) پرندہ

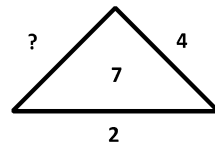
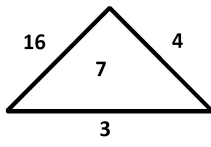
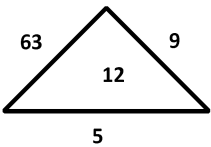
III : ذیل میں ہر مثلث کے باہر لکھے ہوئے تین اعداد کا اندر لکھے ہوئے عدد سے خاص تعلق ہے، اس تعلق کی بنیاد پر سوالیہ علامت؟ کی جگہ پر کون سا عدد آئے گا۔



(D) ان میں سے کوئی نہیں

(B) 37 (C) 145

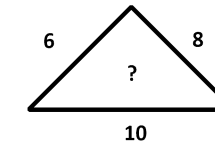
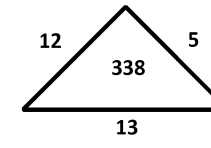
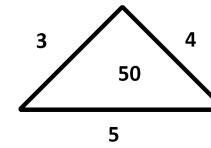
(A) 35



(D) 15

(B) 20 (C) 30

(A) 28



(D) ان میں سے کوئی نہیں

(B) 100 (C) 148

(A) 200

-IV صحیح رشتہ پہچانیے۔

80. آپ کی امی کی ساس کا اکلوتا بیٹا آپ کا کون؟  
 (A) والد (B) ماموں (C) چچا (D) دادا
81. آپ اپنی بہن کے بڑے بھائی کے بیٹے کے کون؟  
 (A) چھوٹے بھائی (B) بڑے بھائی (C) چچا (D) ماموں

82. آپ کی بہن کا بیٹا اور آپ کے بھائی کے بیٹے میں کیا رشتہ ہوا؟

- (A) پھوپھی زاد ماموں زاد (B) چچا زاد بھائی (C) خالہ زاد بھائی (D) چچا، بھتیجا

V کون سا لفظ باقی الفاظ سے مختلف ہے۔

83. (A) کلاس روم (B) کھیل کا میدان (C) تجربہ گاہ (D) بازار

84. (A) افسانہ (B) حمد (C) نعت (D) قصیدہ

85. (A) آیت (B) سورہ (C) ثواب (D) پارہ

-VI مطلب بیان کیجیے۔

86. اگر ABC کا مطلب DEF تو PQR کا مطلب؟

- (A) XYZ (B) STU (C) ABC (D) ان میں سے کوئی نہیں

87. اگر LMNO کا مطلب 1234 تو PQRS کا مطلب

- (A) 4321 (B) 5678 (C) دونوں A اور B (D) ان میں سے کوئی نہیں

88. اگر زاویہ = 2، ذواربعتہ الاضلاع = 4، دائرہ = 0 تو  $x = ?$

- (A) 3 (B) 6 (C) 5 (D) 1

-VII وہ عدد کون سا؟

89. جس کے نصف میں '1' جمع کرنے پر وہی عدد حاصل ہو۔

- (A) 2 (B) 4 (C) 6 (D) 8

90. جس کو x سے ضرب کرنے پر x ہی حاصل ہو

- (A) x (B) 0 (C) 1 (D) ان میں سے کوئی نہیں

91. جس کو کسی بڑے سے بڑے عدد سے ضرب کرنے پر '0' حاصل ہو۔

- (A) 1 (B) 0 (C) کوئی نہیں (D) کوئی بھی طبعی عدد

-VIII درج ذیل حالات میں آپ کیا کریں گے؟

92. کم روشن کمرے میں گیس سلنڈر کے پائپ سے گیس خارج ہونے لگے۔

(A) کمرے کی لائٹ آن کریں گے (B) اخراج کی جگہ پر پائپ کو گرم کر کے سوراخ بند کریں گے

(C) اسٹوجلا کر گیس کا جلدی سے استعمال کریں گے (D) کھڑکیاں دروازے کھول دیں گے

93. گزشتہ امتحان کے مقابلے میں اس امتحان میں انتہائی کم نشانات ملنے پر۔

(A) کلاس ٹیچر کی شکایت کریں گے (B) رات دن پڑھائیں کریں گے

(C) اپنی کمزوریوں کا جائزہ لے کر بہتر منصوبہ بندی کر کے آئندہ امتحان میں بہتر نشانات حاصل کرنے کی کوشش کریں گے

(D) پڑھائی سے دستبرداری حاصل کریں گے۔

94. ایک صحت مند نوجوان روزانہ آپ کے گھر پہنچ کر خیرات مانگنے لگے تو؟  
 (A) کارٹواں سمجھ کر خیرات دیں گے  
 (B) ڈانٹ ڈپٹ کر ٹر خادیں گے  
 (C) پولیس سے شکایت کریں گے  
 (D) ترغیب دلا کر محنت مزدوری کرنے کے لیے آمادہ کریں گے

-IX قواعد کے لحاظ سے کون سا لفظ باقی الفاظ سے مختلف ہے؟

95. (A) لڑکا (B) جلیل (C) کسان (D) چرواہا  
 96. (A) کم (B) پانچ (C) اچھا (D) تدریس  
 97. (A) لفظ (B) کتب (C) صفحات (D) اوراق

-X سب سے مختلف کون؟

98. (A) گائے (B) بکری (C) خرگوش (D) بھینس  
 99. (A) ربر (B) پنسل (C) کاغذ (D) کتاب  
 100. (A) محنت (B) ایمانداری (C) فضول خرچی (D) وقت کی پابندی

☆☆☆☆



دستخط نگران کار

Booklet Serial No.

## مولانا آزاد نیشنل اردو یونیورسٹی

انٹرنس ٹسٹ برائے ڈی ایل۔ ایڈ 2018

D. El.Ed. Entrance Test 2018

کتابچہ پرچہ سوالات Question Paper Booklet

نمبرات : 100

Hall Ticket No.

وقت : دو گھنٹے

OMR Serial No.

### امیدواروں کے لیے ہدایات

نوٹ: یہ کتابچہ چار حصوں پر مشتمل ہے۔ حصہ 'الف' (A) عام معلومات (General Knowledge)، عمومی اردو (General Urdu)، عمومی انگریزی (General English) اور حصہ 'ب' (B) تدریسی رجحان (Teaching Aptitude) اور عمومی ذہنی آزمائش (General Mental Ability) پر مشتمل ہے۔

1. اوپر فراہم کی گئی جگہ پر امیدوار اپنا OMR اور ہال ٹکٹ نمبر لکھیں۔ اس کے علاوہ کتابچے میں کسی بھی صفحے پر ہال ٹکٹ نمبر، OMR نمبر یا اپنا نام نہ لکھیں۔
2. یہ پرچہ سوالات کل 16 صفحات پر مشتمل ہے۔ آخر کے 2 صفحات Rough Work کے لیے ہیں۔ اگر اس کتابچے میں صفحات کم ہوں یا اس کی ترتیب میں کوئی غلطی ہو تو جوابات لکھنے سے پہلے ہی نگران کار سے اسے تبدیل کروالیں۔
3. اس کتابچے میں جملہ 100 معروضی سوالات ہیں۔ ہر سوال کے نیچے 4 متبادل (A) (B) (C) (D) جوابات دیے گئے ہیں۔ سوال کے صحیح جواب کا انتخاب کیجیے۔ پھر OMR جوابی بیاض میں اپنے منتخب کردہ جواب کے دائرے کو صرف Blue / Black Ballpoint Pen سے گہرا کیجیے۔

4. امیدوار کو نمبرات صرف OMR جوابی بیاض میں صحیح جواب دینے پر دیے جائیں گے۔ اگر اس کتابچے میں امیدوار نے جواب پر نشان لگایا ہو لیکن OMR میں دائرے کو گہرا نہ کیا ہو تو ایسی صورت میں امیدوار کو کوئی نمبر نہیں ملے گا۔
5. اگر ایک سے زیادہ دائروں کو گہرا کیا گیا ہو تو اس سوال کے نمبر نہیں ملیں گے۔
6. غلط جواب پر کوئی Negative Marks نہیں ہے۔
7. انٹرنس ٹسٹ کے اختتام پر امیدوار کتابچہ پرچہ سوالات اپنے ساتھ لیجا سکتے ہیں۔

☆☆☆

**حصہ الف (Part - A)**  
**عام معلومات - General knowledge**

1. مولانا ابوالکلام آزاد کی پیدائش کس شہر میں ہوئی تھی؟
  - (A) کلکتہ
  - (B) دہلی
  - (C) مکہ شریف
  - (D) حیدرآباد
2. مولانا آزاد نیشنل اردو یونیورسٹی کے پہلے وائس چانسلر کون تھے؟
  - (A) پروفیسر شمیم بے راجپوری
  - (B) پروفیسر اے۔ ایم۔ پٹھان
  - (C) پروفیسر محمد میاں
  - (D) ان میں سے کوئی نہیں
3. زمین جب اپنے محور پر گھومتی ہے تو
  - (A) موسم بدلتے ہیں
  - (B) دن رات ہوتے ہیں
  - (C) بارش ہوتی ہے
  - (D) دن چھوٹے ہوتے ہیں
4. زمین کی کتنی گردشیں ہوتی ہیں
  - (A) چار
  - (B) دو
  - (C) تین
  - (D) ایک
5. محمد انینگٹو اور نیشنل کالج کو قائم کرنے والے رہنما ہیں۔
  - (A) مولانا آزاد
  - (B) ڈاکٹر ذاکر حسین
  - (C) علامہ اقبال
  - (D) سر سید احمد خان
6. ہمارے ملک کے موجود صدر جمہوریہ کون ہیں؟
  - (A) شری محمد حامد انصاری
  - (B) ڈاکٹر اے۔ پی۔ جے عبدالکلام
  - (C) شری رام ناتھ کوویند
  - (D) شری راج ناتھ سنگھ
7. ذیل میں سے کون سی تصنیف مولانا ابوالکلام آزاد کی ہے؟
  - (A) آثار الصنادید
  - (B) اکبر نامہ
  - (C) غبارِ خاطر
  - (D) کارآمدِ تعلیم
8. OIC کا نام فارم کیا ہے
  - (A) Organisation of the Islamic Conference
  - (B) Organisation of Islamic Countries
  - (C) Organisation of Freeland Conference
  - (D) ان میں سے کوئی نہیں

9. ہندوستان کا قومی جانور کون سا ہے؟  
 (A) شیر  
 (B) گائے  
 (C) بنگال ٹائیگر  
 (D) ہاتھی
10. وٹامن سی (C) کی کمی سے کون سی بیماری ہوتی ہے؟  
 (A) اسکرووی Scurvy  
 (B) رٹونڈھی Night Blindness  
 (C) گھینگا  
 (D) میعادہ بخار
11. ہندوستان کا پہلا خلا باز (Astronaut) کون تھا؟  
 (A) راجیش شرما  
 (B) راکیش شرما  
 (C) ارجن سنگھ  
 (D) کلپنا چاؤلہ
12. نہر سوئز (Suez Canal) کن دو براعظموں کو تقسیم کرتی ہے؟  
 (A) نارٹھ امریکہ اور ساؤتھ امریکہ  
 (B) افریکہ اور ایشیا  
 (C) یورپ اور ایشیا  
 (D) امریکہ اور یورپ
13. انسان کے بچے کے پیدائش کے وقت جسم میں کل کتنی ہڈیاں ہوتی ہیں؟  
 (A) 280  
 (B) 260  
 (C) 270  
 (D) 290
14. متاثرہ کتے کے کاٹنے سے کون سی بیماری ہوتی ہے؟  
 (A) ریبیس (Rabbies)  
 (B) اسکروبی  
 (C) طاعون (Plaque)  
 (D) ان میں سے کوئی نہیں
15. آسام کا صدر مقام ہے  
 (A) امپھال  
 (B) انانگر  
 (C) دس پور (Dispur)  
 (D) شیلانگ
16. بلند دروازہ کس شہر میں ہے؟  
 (A) دہلی  
 (B) آگرہ  
 (C) فتح پوری سیکری  
 (D) حیدرآباد
17. ذیل میں سے کون سا سیارہ سورج سے تیسرے نمبر پر ہے؟  
 (A) عطارد (Mercury)  
 (B) زہرہ (Venus)  
 (C) زمین (Earth)  
 (D) یورینس (Uranus)

18. راجپوگانڈھی کھیل رتن ایوارڈ 2017ء میں ہاکی (Hockey) میں کس کو ملا؟
- (A) سردار سنگھ  
(B) دیویندر سنگھ  
(C) بلیر سنگھ  
(D) سندیب سنگھ
19. دادا پھالکے ایوارڈ کو حکومت ہند نے کس سن سے شروع کیا؟
- (A) 1970  
(B) 1969  
(C) 1980  
(D) 1979
20. 2017 کا دادا صاحب پھالکے ایوارڈ کس کو دیا گیا؟
- (A) امیتا بھ بچن  
(B) عامر خان  
(C) کاشی ناتھونی وشواناتھ  
(D) لیش چو پڑا

### عمومی اردو - General Urdu

21. فعل ماضی کی کتنی قسمیں ہیں؟
- (A) چار  
(B) پانچ  
(C) چھ  
(D) سات
22. 'ابد' کے لغوی معنی کیا ہیں؟
- (A) بدی کی جمع  
(B) ہمیشہ  
(C) ہمیشہ زندہ رہنے والا  
(D) بندہ
23. ”ناک رگڑنا“ ایک محاورہ ہے جس کا معنی ہے؟
- (A) خوشامد کرنا  
(B) ناک دھونا  
(C) سجدہ کرنا  
(D) مانگنا
24. 'کفن' کس کا افسانہ ہے؟
- (A) راجندر سنگھ بیدی  
(B) سعادت حسن منٹو  
(C) کرشن چندر  
(D) پریم چند
25. ”میں آج اسکول پیدل جاؤں گا“ اس جملے میں فاعل بتائیے۔
- (A) آج  
(B) میں  
(C) اسکول  
(D) پیدل

26. 'شاہ' کی ضد بتائیے۔  
 (A) فقیر  
 (B) غریب  
 (C) گدا  
 (D) مفلس
27. غلام کا مونث بتائیے۔  
 (A) نوکر  
 (B) نوکرانی  
 (C) باندی  
 (D) ان میں سے کوئی نہیں
28. تخلص کیا ہے؟  
 (A) اسم مذکر  
 (B) ضمیر  
 (C) اسم فاعل  
 (D) اسم معرفہ
29. رباعی میں کتنے مصرعے ہوتے ہیں؟  
 (A) دو  
 (B) تین  
 (C) چار  
 (D) پانچ
30. ان میں سے کون مشہور ناول نگار ہے؟  
 (A) ڈپٹی نذیر احمد  
 (B) نظیر اکبر آبادی  
 (C) علامہ شبلی نعمانی  
 (D) مولانا الطاف حسین حالی

### عمومی انگریزی - General English

Fill in the blanks with correct answers

31. .... apple is .....fruit.  
 A) The, a  
 B) An, a  
 C) An, the  
 D) The, an
32. I bought ..... cow and ..... ox.  
 A) An, an  
 B) The, the  
 C) An, the  
 D) A, an
33. As the festival approaches the number of customers .....  
 A) increases  
 B) is increases  
 C) will be increased  
 D) will have increased

34. Truth is always stronger than .....
- A) History B) Flasehood  
C) Fiction D) Hiding
35. She is my father. Which is wrong word.
- A) Is B) She  
C) My D) None of the above
36. I saw a ..... of robbers.
- A) Group B) Band  
C) Flock D) Pack
37. Choose the correct synonym of the word 'Beautiful'.
- A) Pretty B) Ugly  
C) Homely D) Clumsy
38. The rule of person who is tyrant .....
- A) Autocracy B) Dictatorship  
C) Aristocracy D) Tyranny
39. Who discovered India ..... (put correct punctuation sign.)
- A) ? B) !  
C) . D) —
40. A government of the people, for the people and by the people.
- A) Bureaucracy B) Democracy  
C) Monarchy D) Aristocracy

### حصہ ب (Part - B)

### تدریسی رجحان - Teaching Aptitude

41. اگر معلم دوران تدریس کوئی غلطی کر دیتا ہے تو اسے مندرجہ ذیل میں سے کیا کرنا چاہیے۔
- (A) وہ اپنی غلطی کو مان لے (B) وہ اسے بھلانے کی کوشش کریں  
(C) غلطی کرے اور بھول جائے (D) اس کے تئیں انجان بن جائے

42. ایک موثر تدریس میں مندرجہ ذیل خوبی نہیں ہوتی۔  
 (A) بحث۔ مباحثہ  
 (B) گھر کے کام کا بوجھ  
 (C) مسئلہ کو حل کرنے کے طریقے کا فروغ  
 (D) سبق کو رٹنا
43. اگر طالب علم درجہ جماعت میں اونگھ رہا ہے تو اس کا مطلب ہے۔  
 (A) معلم کی تدریس موثر نہیں ہے  
 (B) طالب علم تدریس میں دلچسپی نہیں رہا ہے  
 (C) طالب علم رات میں مکمل سویا نہیں ہے  
 (D) طالب علم تھکا ہوا ہے
44. معلم کے ذریعے دیے جانے والے گھر کے کام کی مقدار اور قسم کو طے کرنا چاہیے۔  
 (A) طلبہ کی رائے سے  
 (B) موادِ مضمون کی پیچیدگی کے مطابق  
 (C) گھر کے کام سے پیدا ہوئے سیکھنے کے عمل کے ذریعے  
 (D) ان میں سے کوئی نہیں
45. معلم کو اپنے کام میں اعلیٰ صلاحیت رکھنے کے لیے مندرجہ ذیل میں کیا کرنا چاہیے۔  
 (A) اسکول میں ہونے والے سبھی سمینار میں حصہ لینا  
 (B) اپنے مضمون سے متعلق نئی کتابوں کا مطالعہ  
 (C) اپنے مضمون میں لکھتے رہنا چاہیے۔  
 (D) درج بالا میں سبھی
46. اسکول میں کچھ طلبہ اوسط درجے سے نیچے ہیں۔ آپ اس اسکول کے صدر مدرس ہیں اس لیے ان طلبہ کے تئیں آپ کی کیا ذمہ داری بنتی ہے؟  
 (A) اسکول کے سبھی طلبہ کے ساتھ مساوی طرز عمل ہوگا  
 (B) اوسط سے نیچے کے طلبہ کو اسکول سے نکلانے کا ارادہ  
 (C) ان طلبہ کے تئیں شفقت رکھنا  
 (D) کوئی خاص توضیح نہیں دینا
47. آپ صدر مدرس کی حیثیت سے کسی معلم کے اچھے کاموں کے لیے کیا کریں گے؟  
 (A) سبھی تدریسی عملہ کے سامنے اس معلم کی تعریف کریں گے  
 (B) طلبہ کے سامنے اس معلم کی مثال پیش کریں گے  
 (C) وقت وقت پر اسے متحرک کرنا  
 (D) درج بالا میں سبھی
48. بنیادی تعلیم (Basic Education) کے نظریہ کو رائج کرنے والے رہنما کا نام کیا ہے۔  
 (A) مولانا ابوالکلام آزاد  
 (B) مہاتما گاندھی  
 (C) سر سید احمد خان  
 (D) رادھا کرشنن
49. یوم اساتذہ کن کی پیدائش کے دن منایا جاتا ہے؟  
 (A) پنڈت جواہر لال نہرو  
 (B) مہاتما گاندھی  
 (C) رادھا کرشنن  
 (D) ونو باجھوے
50. بچہ کا ابتدائی معلم ہوتا ہے؟  
 (A) باپ  
 (B) ماں  
 (C) ساتھی  
 (D) مذہبی رہنما

51. غیر رسمی تعلیم سے فائدہ ہوتا ہے۔  
 (A) تختانوی تعلیم کو عام کرنا  
 (B) ترک تعلیم کو کم کرنا  
 (C) ناخواندگی کو دور کرنا  
 (D) ان میں سے کوئی نہیں
52. طلبہ کا رویہ اساتذہ سے ایسا ہونا چاہیے۔  
 (A) عقیدت مندانہ  
 (B) حکم کی تعمیل کرنا  
 (C) دوستانہ  
 (D) بے پرواہ
53. اکثر مقامات پر تعلیمی نظام ایسا ہے۔  
 (A) معلم مرکوز  
 (B) درسی کتاب مرکوز  
 (C) طالب علم مرکوز  
 (D) سماج مرکوز
54. سماج کا مدرسہ سے تعلق بڑھانے کے لیے  
 (A) تفریح کے پروگرام بنانا  
 (B) طلبہ کا سماجی کاموں میں حصہ لینا  
 (C) سماجی تنظیموں میں شامل ہونا  
 (D) قومی تیو ہار منانا
55. تعلیمی تفریح سے طلبہ کو بچنے والا فائدہ  
 (A) دیدہ زیب مقامات کا نظارہ  
 (B) علم میں اضافہ  
 (C) ذہنی نشوونما  
 (D) طلبہ میں اجتماعیت کا فروغ
56. گھر کا کام دینے سے طلبہ میں  
 (A) آسانی سے کر کے سیکھنے کا خیال پیدا ہونا  
 (B) سوچنے کی صلاحیت کو فروغ دینا  
 (C) دوسروں پر منحصر ہونے کے قابل بنانا  
 (D) مشکل نہ ہونے کا خیال پیدا کرنا
57. SUPW کا اہم مقصد ہے  
 (A) مدرسہ کو مزید مالی امداد فراہم کرنا  
 (B) روزمرہ کی زندگی میں کام آنے والے ہنر سیکھنا  
 (C) اپنی ضرورت کی چیزیں خود تیار کرنا  
 (D) ہمہ قسم کے اشیاء سے متعلق علم
58. تعلیم کے خاص مقاصد کا اہم منبع ہے  
 (A) انسانی تجربے  
 (B) تجارتی تنظیم  
 (C) تعلیم دینے والے اسکول  
 (D) تعلیمی نفسیات
59. تمام ماہرین تعلیم کا یہ اقرار ہے کہ تعلیم ہونی چاہیے۔  
 (A) صرف علمی فروغ کے لیے  
 (B) طرز عمل میں مثبت تبدیلی لانے کے لیے  
 (C) انسان کو اس کے ماحول سے مطابقت پیدا کرنے کے لیے  
 (D) ان میں سے کوئی نہیں



60. پرائمری سطح کے نصاب کا جھکاؤ ہونا چاہیے۔  
 (A) موادِ مضمون کی طرف  
 (B) تمام مضامین میں اعلیٰ صلاحیت پیدا کرنے کے لیے  
 (C) سماجی فروغ کے لیے  
 (D) طلبہ کی ہمہ جہت فروغ کے لیے۔
61. فطری صلاحیت / رجحان (Aptitude) سے مراد۔  
 (A) شخص کی حاصل کردہ مہارت  
 (B) شخص کی Potentiality  
 (C) فرد کو ملازمت دینے والی اہمیت  
 (D) فرد کی موجودہ صلاحیت
62. کچھ عرصہ سے معلم کا مقام گرتا جا رہا ہے۔ ایسا کیوں خیال کیا جا رہا ہے؟  
 (A) اساتذہ اپنے فرائض کو ٹھیک طرح سے نہیں انجام دے رہے ہیں  
 (B) کم تنخواہیں  
 (C) سروس کنڈیشن اطمینان بخش نہیں ہے  
 (D) ان میں سے کوئی نہیں
63. کس نے یہ تبصرہ کیا ”معلم سے بلند مقام کوئی حاصل نہیں کر سکتا“۔  
 (A) سنڈری ایجوکیشن کمیشن 1952  
 (B) ایجوکیشن کمیشن (1964-66)  
 (C) قومی تعلیمی پالیسی 1986  
 (D) جامعہ
64. فطری صلاحیت ان میں سے کس کے مساوی ہوتی ہے؟  
 (A) فرد کی مہارتیں  
 (B) فرد کی مکمل صلاحیت  
 (C) مہارت حاصل کرنے کے لیے فرد کو درکار صلاحیت  
 (D) ان میں سے کوئی نہیں
65. کمرہ جماعت میں طلبہ کی معیاری تعداد ہونی چاہیے۔  
 (A) 50  
 (B) 25  
 (C) 40  
 (D) 30
66. اسکول میں کھیل کود کی تقریب منعقد کرنے سے  
 (A) درس و تدریس کے کام کا نقصان ہوتا ہے  
 (B) وقت اور پیسوں کی بربادی ہوتی ہے  
 (C) طلبہ کو آرام ملتا ہے  
 (D) طلبہ میں ذہنی اور جسمانی فروغ ہوتا ہے
67. DIET کا فل فارم کیا ہے؟  
 (A) Department of Indian Education and Training  
 (B) Delhi Institute of Education & Training  
 (C) District Institute of Education and Training  
 (D) Direct Institute of Education and Training

68. ٹیم میں کھیلنے سے طلبہ میں کون سے جذبات کا فروغ ہوگا۔

(A) مدد کرنے کا (B) حسد

(C) مقابلہ (D) لگاؤ

69. آپ اسکول میں وارڈن (Warden) ہیں۔ آپ کے گھر میں ایک تقریب منعقد کی جانی ہے۔

(A) آپ اسکول کے فرنیچر کو گھر لے جائیں گے (B) طلبہ سے اپنے گھر کا کام کرائیں گے

(C) متعلقہ افسر کی اجازت سے ہی اسکول کے سامان کو اصول کے مطابق استعمال کریں گے (D) ان میں سے سبھی

70. آپ کی رائے میں آج کل کے معلم ہیں۔

(A) سبھی خراب ہیں (B) سبھی اچھے ہیں

(C) خود غرض اور چالاک (D) کچھ اچھے اور کچھ خراب

### عمومی ذہنی آزمائش - (General Mental Ability)

-I اعداد کی سیریز کو مکمل کیجیے۔

71. 2, 5, 11, ..... 47, 95

(A) 19 (B) 21

(C) 23 (D) 27

72. 5, 17, 37, ..... 101, 145

(A) 57 (B) 65

(C) 69 (D) 73

73. 45, 34, 25, 18, 13 .....

(A) 6 (B) 8

(C) 9 (D) 10

-II سوالیہ علامت کی جگہ پر مناسب ترین لفظ لکھیے۔

74. برف : بھاپ :: ٹھنڈا :

(A) برف (B) آگ

(C) گرم (D) پانی

75. حروف : لفظ :: لفظ

- (A) آواز  
(B) جملہ  
(C) لغت  
(D) قاموس

76. دھواں : آلودگی :: جنگ:

- (A) جیت  
(B) موت  
(C) دشمن  
(D) فوج

-III صحیح رشتہ پہچانیے۔

77. اگر فرقان کہتا ہے کہ 'اجمل کے والد میرے والد کے اکلوتا بیٹا ہے' تو فرقان کا اجمل سے کیا رشتہ ہوا۔

- (A) بیٹا  
(B) بہن  
(C) والد  
(D) ان میں سے کوئی نہیں

78. ایک شخص کا تعارف کراتے ہوئے ایک خاتون نے کہا۔ "اس کی بیوی میری ماں کی اکلوتی لڑکی ہے"۔ اس عورت کا اس آدمی سے کیا رشتہ ہے؟

- (A) سالی  
(B) بیوی  
(C) ساس  
(D) چاچھی

79. میرے چاچا کی والدہ کے شوہر سے میرا کیا رشتہ ہوگا؟

- (A) نانا  
(B) چاچا  
(C) دادا  
(D) ماما

IV غیر متعلق لفظ شناخت کیجیے۔

80. (A) چاندی (B) سونا (C) لوہا (D) ہیرا  
81. (A) بیل (B) بھالو (C) شیر (D) مرغی  
82. (A) گنگا (B) گوداوری (C) کرشنا (D) نرملا  
83. (A) پٹنہ (B) رائے پور (C) بھوپال (D) کانپور

-V مطلب بیان کیجیے۔

84. عیدالاضحیٰ میں کتنے حروف ساکن ہیں؟

- (A) ایک  
(B) دو  
(C) تین  
(D) چار

85. گائے اور ہاتھی جانور ہیں۔ اس کو ظاہر کرنے والی شکل کون سی ہے؟



-VI وہ عدد کون سا؟

86. 450 سنٹی میٹر کو میٹر میں کیسے لکھیں گے؟

- (A) 4.5 میٹر (B) 45 میٹر  
(C) .45 میٹر (D) 0.045 میٹر

87. 200 کا 1.5 فیصد کتنا ہوگا؟

- (A) 3 (B) 1.5  
(C) 4 (D) 2.5

88. ایک کلومیٹر میں کتنے میٹر ہوتے ہیں؟

- (A) 10,000 (B) 1000  
(C) 1100 (D) 2000

-VII درج ذیل حالات میں آپ کیا کریں گے؟

89. اگر آپ کسی شہر میں راستہ بھول جائیں تو آپ  
(A) موجود پولیس آفس سے راستہ معلوم کریں گے  
(B) خود سے راستہ تلاش کریں گے  
(C) وہاں موجود لوگوں سے راستہ معلوم کریں گے  
(D) ان میں سے کوئی نہیں

90.  $5x + 7x = 48$  ہو تو X کی قیمت کیا ہوگی؟

- (A) 3 (B) 5  
(C) 4 (D) 6

91. چوکون میں مناسب علامت لکھیے۔

$(12 + 6) \div 3$    $(3 \times 2)$

- (A) > (B) <  
(C) = (D) ان میں سے کوئی نہیں

.92  $(? \div 4) \times 6 = 48$

12 (B)

36 (A)

32 (D)

24 (C)

.93 تبسم ایک گھنٹے میں 5 کیلومیٹر پیدل چلتی ہے تو وہ 6 گھنٹے میں کتنے کیلومیٹر پیدل چلے گی؟

30 (B)

35 (A)

36 (D)

25 (C)

.94  $3 + 3 \div 3 = ?$

2 (B)

3 (A)

4 (D)

4 (C)

VIII ذیل کے جملے مکمل کیجیے:

.95 آم کے آم اور .....

(B) چھلکے کے دام

(A) گھٹلی کے دام

(D) رس کے دام

(C) گھٹلیوں کے دام

.96 اب آیا اونٹ پہاڑ کے .....

(B) کی طرف

(A) اوپر

(D) ان میں سے کوئی نہیں

(C) نیچے

.97 نیکی کر دریا میں .....

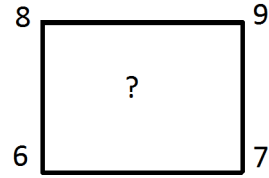
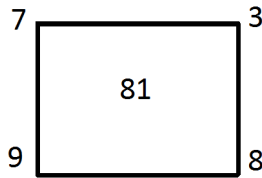
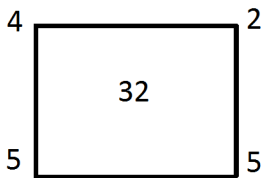
(B) رکھ

(A) پھینک

(D) ڈال

(C) بہا

IX ذیل کے مربعوں کے باہر لکھے ہوئے چار اعداد کا مربع کے اندر لکھے ہوئے عدد سے خاص تعلق ہے۔ اس تعلق کی بنیاد پر سوالیہ نشان کی جگہ کون سا عدد آئے گا۔

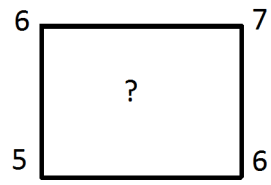
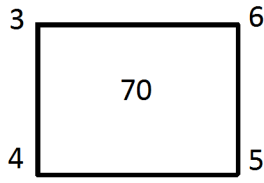
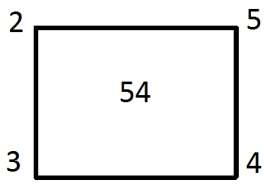


115 (B)

120 (A)

111 (D)

110 (C)



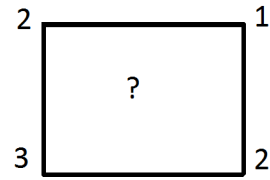
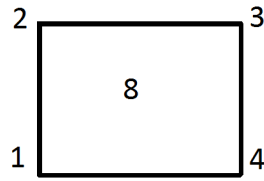
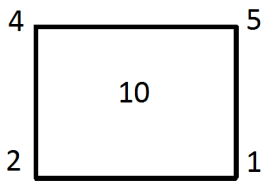
.99

96 (B)

80 (A)

76 (D)

86 (C)



.100

4 (B)

6 (A)

5 (D)

8 (C)

☆☆☆

## **Rough Work**

## **Rough Work**





**Part - A (حصہ - الف)**  
**General knowledge - عام معلومات**

1. بھارت کے دستور کا معمار کسے کہا جاتا ہے؟  
(A) ڈاکٹر اجندر پرشاد (B) بابا صاحب امبیڈکر (C) مولانا آزاد (D) پنڈت نہرو
2. مولانا آزاد نیشنل اردو یونیورسٹی کا قیام عمل میں آیا؟  
(A) 1992 (B) 2000 (C) 1995 (D) 1998
3. بھارت میں وزارتِ تعلیم کو اب کیا کہتے ہیں؟  
(A) وزارت برائے فروغِ انسانی وسائل (B) وزارتِ تعلیم  
(C) وزارتِ تعلیم و تربیت (D) وزارتِ انسانی وسائل
4. ہمارے ملک کا طرز حکومت کیسا ہے؟  
(A) عامرانہ (B) جمہوری (C) ڈکٹیٹر شپ (D) بادشاہی
5. جاپان کے شہروں ہیروشیما اور ناگاساکی پر ایٹم بم کس جنگ میں گرائے گئے؟  
(A) جنگِ آزادی (B) جنگِ عظیمِ اول (C) جنگِ عظیمِ دوم (D) انقلابِ روس
6. مجلسِ اقوام (لیگ آف نیشنز) کا قیام کس جنگ کے بعد عمل میں آیا؟  
(A) 1857 کی جنگِ آزادی (B) انقلابِ فرانس  
(C) جنگِ عظیمِ دوم (D) جنگِ عظیمِ اول
7. سرسید کے جاری کردہ اُس رسالے کا نام بتائیے جو اب علی گڑھ مسلم یونیورسٹی سے شائع ہوتا ہے؟  
(A) تہذیبِ الاخلاق (B) کھلونا  
(C) اُمنگ (D) ماہنامہ سائنس
8. بھارت میں زراعت کا انحصار بڑی حد تک کس پر ہے؟  
(A) دریائی پانی (B) مانسونی بارش (C) زیر زمین پانی (D) نہر
9. دنیا کی بلند ترین چوٹی ماؤنٹ ایورسٹ کس پہاڑ پر واقع ہے؟  
(A) ہمالیہ (B) ست پڑا (C) مغربی گھاٹ (D) کوہِ آپس

10. کس قانون کے ذریعے ہم حکومتی اداروں سے معلومات حاصل کر سکتے ہیں۔  
 (A) دستور ہند (B) لازمی اور مفت تعلیم کا حق  
 (C) قانون حق معلومات (D) قانون رازداری
11. ہمارے ملک کے موجودہ صدر جمہوریہ کون ہیں؟  
 (A) شری پرنب کرجی (B) شری ہاشم انصاری  
 (C) شری ارون جیٹلی (D) شری متی سونیا گاندھی
12. توانائی کا سب سے بڑا ذریعہ جسے ہم استعمال نہیں کر پارہے ہیں؟  
 (A) آبی توانائی (B) جوہری توانائی  
 (C) ہوا کی توانائی (D) ستشی توانائی
13. عالمی حدت (Global Warming) کی اہم وجہ کون سی ہے؟  
 (A) کونکہ جلانا (B) رکازی ایندھن  
 (C) ایٹم بم (D) لکڑی جلانا
14. ماحولیات میں غیر معمولی تبدیلیوں کے لیے کون ذمہ دار ہیں؟  
 (A) ماحول (B) قدرت  
 (C) انسانی اعمال (D) صنعتی اعمال
15. کتاب Wings of Fire کے مصنف کون ہیں؟  
 (A) اے۔ پی۔ جے۔ ابوالکلام (B) مولانا آزاد  
 (C) علامہ اقبال (D) غالب
16. ذیل میں سے کون سی تصنیف مولانا ابوالکلام آزاد کی ہے؟  
 (A) ترجمہ السنہ (B) غبارِ خاطر  
 (C) تاریخ فرشتہ (D) ترجمان
17. NCERT کا پورا نام ہے؟  
 (A) New Conception in Education and Research  
 (B) National Council for Educational Research & Training  
 (C) National Council for Teacher Education  
 (D) New Council for Education and Research
18. مرزا اسد اللہ خان غالب کس زبان کے شاعر تھے؟  
 (A) عبرانی (B) اردو  
 (C) ترکی (D) عربی

19. بھارت کا قومی کھیل کون سا ہے؟  
 (A) کرکٹ (B) کھوکھو  
 (C) کبڈی (D) ہاکی
20. عدم تشدد/اہنسا (Non-Violence) کس قومی رہنما کی دین ہے؟  
 (A) مولانا آزاد (B) موتی لال نہرو  
 (C) موہن داس کرم چند گاندھی (D) لوک مانیہ تلک

### جنرل اردو - General Urdu

21. جس جملہ میں صرف ایک فعل ہو اسے کیا کہتے ہیں؟  
 (A) مرکب جملہ (B) مفرد جملہ (C) پیچیدہ جملہ (D) سادہ جملہ
22. عالم کی جمع کیا ہے؟  
 (A) علماء (B) علماؤں (C) عالم (D) عالماؤں
23. حمد کسے کہتے ہیں۔  
 (A) حضورؐ کی تعریف میں کہی گئی نظم (B) امام حسینؑ کی تعریف میں کہی گئی نظم  
 (C) بی بی فاطمہؑ کی تعریف میں کہی گئی نظم (D) اللہ کی تعریف میں کہی گئی نظم
24. فقدان کے معانی کیا ہیں؟  
 (A) زیادتی (B) کمی (C) برابری (D) ان میں سے کوئی نہیں
25. ان میں کون اردو کے مشہور ناول نگار ہیں؟  
 (A) منشی پریم چند (B) غالب (C) سرسید احمد خان (D) شبلی نعمانی
26. بھارت کی واحد اردو ذریعہ تعلیم کی یونیورسٹی کون سی ہے؟  
 (A) دہلی یونیورسٹی (B) علی گڑھ مسلم یونیورسٹی  
 (C) علی گڑھ اردو یونیورسٹی (D) مولانا آزاد نیشنل اردو یونیورسٹی
27. مونث کی ضد کیا ہے؟  
 (A) مذکر (B) نامونث (C) مذکر (D) کوئی بھی نہیں

28. رباعی میں کتنے مصرعے ہوتے ہیں؟  
 (A) ایک (B) تین (C) چار (D) پانچ
29. جان ہے تو جہان ہے اس کا مطلب ہوتا ہے؟  
 (A) دنیا میں جاندار رہتے ہیں (B) جان کی قیمت جہاں سے زیادہ ہے  
 (C) جان سے بڑھ کر کچھ نہیں (D) جان کی کوئی قیمت نہیں
30. مجھے اپنے وطن سے بہت محبت ہیں۔ اس جملے میں کون سا لفظ غلط استعمال ہوا ہے؟  
 (A) بہت (B) ہیں (C) مجھے (D) اپنے

### عمومی انگریزی - General English

31. Find right meaning of 'lifestyle'.  
 A) fashion B) way of living  
 C) life saving D) style of cloth
32. I am ..... to school.  
 A) going B) gone  
 C) wenting D) from
33. She is my father. Which is the wrong word.  
 A) my B) she  
 C) father D) None of these
34. Synonym means.  
 A) word or phrase that means exactly or nearly same  
 B) similar words  
 C) opposite words  
 D) None of these
35. What is gravity ..... put correct punctuation sign.  
 A) ! B) ? C) . D) -
36. I ..... run faster than Rahul. Fill in the blank by correct word.  
 A) am B) do C) is D) can
37. Delay means:  
 A) late in time B) in time  
 C) after time D) before time

38. People in olden days ..... worships nature.  
 A) used to B) to used  
 C) not D) None of these
39. We get news from ..... Complete the sentence.  
 A) gossip B) rumours  
 C) Newspaper D) Books
40. Where are you .....? Complete the sentence.  
 A) gone B) going  
 C) went D) go

### Part - B (حصہ - ب)

#### Teaching Aptitude - تدریسی رجحان

41. معلم کا سب سے اہم کام ہوتا ہے؟  
 (A) تدریسی تجربات فراہم کرنا  
 (B) طلباء کو خاموش کرنا  
 (C) طلباء کا خیال کرنا  
 (D) امتحان لینا
42. جو اہر نو دیہ و دیالیہ کے قیام کا مقصد ہے؟  
 (A) اسکولوں کی تعداد میں اضافہ کرنا  
 (B) دیہی (Rural) علاقے کے طلبہ کو معیاری تعلیم فراہم کرنا  
 (C) تعلیم میں ضائیگی کو روکنا  
 (D) علم پھیلانا
43. پرائمری سطح پر طلبہ کو کس زبان میں تعلیم دینی چاہیے؟  
 (A) مادری زبان  
 (B) قومی زبان  
 (C) علاقائی زبان  
 (D) انگریزی
44. اگر آپ کا بہ یک وقت چار پیشوں (profession) میں انتخاب ہو جائے تو آپ کس پیشے میں شامل ہونگے  
 (A) معلم  
 (B) انسپکٹر  
 (C) فوج  
 (D) بنک
45. تختہ سیاہ پر لکھنے وقت سب سے زیادہ اہم کیا ہوتا ہے؟  
 (A) اچھا خط  
 (B) واضح اور صحیح لکھائی  
 (C) بڑے حروف میں لکھنا  
 (D) خوبصورتی

46. اگر کوئی طالب علم اسکول تاخیر سے آئے تو آپ کیا کریں گے؟  
 (A) اس کے سرپرست کو اطلاع کریں گے  
 (B) اسے سزا دیں گے  
 (C) وجہ جاننے کی کوشش کریں گے  
 (D) نظر انداز کریں گے
47. طلبہ کے سیکھنے کے عمل کی کمزوری دور کرنے کیلئے آپ کیا کریں گے؟  
 (A) زیادہ ہوم ورک دیں گے  
 (B) لائبریری میں مطالعہ کرائیں گے  
 (C) ٹیوشن لگانے کا مشورہ دیں گے  
 (D) تشخیصی تدریس (Diagnostic teaching) کا طریقہ اختیار کریں گے
48. اسکول کے معیار تعلیم کی جانچ کا بہترین پیمانہ کیا ہے؟  
 (A) طلبہ کے حاصلات (نتائج)  
 (B) اسکول میں موجودہ وسائل  
 (C) تدریسی معاونات  
 (D) کلاس روم کا انتظام
49. اسکول کا تعلیمی معیار منحصر ہوتا ہے؟  
 (A) تعلیمی وسائل کی فراہمی  
 (B) مالی وسائل کی فراوانی  
 (C) نقل کروانے  
 (D) اساتذہ کے تعلیمی وقتی معیار پر
50. لڑکیوں کی تعلیم کو اہمیت دینی چاہیے کیونکہ؟  
 (A) لڑکیاں لڑکوں سے زیادہ ذہین ہوتی ہیں  
 (B) لڑکیوں کی تعداد کم ہے  
 (C) لڑکیوں کے ساتھ نا انصافی ہوئی  
 (D) ایک لڑکی کی تعلیم ایک خاندان کو تعلیم ہے
51. تعلیم کا مقصد کیا ہونا چاہیے؟  
 (A) امتحان میں کامیابی حاصل کرنا  
 (B) ملازمت حاصل کرنا  
 (C) عملی زندگی کے لیے طلبہ کو تیار کرنا  
 (D) پڑھنا لکھنا سیکھنا
52. ایک مثالی معلم وہ ہے جو؟  
 (A) نصاب مکمل کرے  
 (B) طلبہ کی مدد کرے  
 (C) طلبہ کا دوست، فلاسفر اور راہ نما ہو  
 (D) سخت نظم و ضبط قائم کرے
53. اس وقت ہمارے ملک میں کس تعلیمی پالیسی پر عمل ہو رہا ہے؟  
 (A) نئی تعلیمی پالیسی 1986  
 (B) درسیاتی خاکہ 2005  
 (C) تعلیمی پالیسی 2015  
 (D) ان میں سے کوئی نہیں
54. تعلیمی عمل میں مرکز توجہ کس کی ذات ہونی چاہیے؟  
 (A) والد کی  
 (B) والدہ کی  
 (C) طالب علم کی  
 (D) معلم کی

55. طلباء کو گھر کام (home work) دینے مقصد کیا ہوتا ہے؟  
 (A) انھیں گھر میں مصروف رکھنا  
 (B) گھر پر مطالعہ کرنے کی عادت ڈالنا  
 (C) مقابلہ آرائی کا فروغ  
 (D) معلم کا بوجھ کم کرنا
56. ایک طالب علم کی ناکامی دراصل ناکامی ہے؟  
 (A) طالب علم کی  
 (B) درسی کتابوں کی  
 (C) معلم کی  
 (D) نظام تعلیم کی
57. معلم کی کامیابی مضمحل ہوتی ہے۔  
 (A) طلباء کی اعلیٰ کارکردگی کے مظاہرے سے  
 (B) ذاتی کردار سے  
 (C) بہتر تدریس سے  
 (D) زائد تدریسی کام میں
58. آپ کے شہر میں ذیل کی چار سرگرمیوں میں آپ کہاں شرکت پسند کریں گے۔  
 (A) میلے میں  
 (B) کھیل کے مقابلے میں  
 (C) کتابوں کی نمائش میں  
 (D) سرکس میں
59. آپ کی تدریس کے دوران طالب علم غیر متعلق سوال پوچھتا ہے تو آپ کیا کریں گے۔  
 (A) اُسے ڈانٹ کر چُپ کرائیں گے  
 (B) اُسے موضوع سے متعلق سوال کرنے کے لیے آمادہ کریں گے  
 (C) اُسے سزا دیں گے  
 (D) کلاس ختم ہونے پر جواب دیں گے
60. اگر آپ کو D.El.Ed. کرنے کے بعد بھی ملازمت نہ ملے تو آپ؟  
 (A) نجی ٹیوشن شروع کریں گے  
 (B) ملازمت حاصل کرنے کا انتظار  
 (C) تجارت کریں گے  
 (D) پیشہ معلمی سے وابستہ ہونے کیلئے مسلسل کوشش
61. ایک معلم اپنے طلباء میں کس طرح تحریک (Motivation) پیدا کر سکتا ہے؟  
 (A) انعام دے کر  
 (B) مناسب رہنمائی کے ذریعے  
 (C) مثالیں دے کر  
 (D) کلاس میں تقریر کر کے
62. اگر آپ کا کوئی طالب علم آپ کی عزت نہ کرے تو آپ کیا کریں گے؟  
 (A) اُسے نظر انداز کریں گے  
 (B) اُسے عزت کرنے پر مجبور کریں گے  
 (C) اُس کی شکایت کریں گے  
 (D) اُسے امتحان میں کم نمبرات دیں گے
63. آپ کے بار بار بلانے پر کسی طالب علم کا سرپرست آپ سے ملاقات کیلئے نہ آئے تو آپ کیا کریں گے۔  
 (A) طالب علم کو نظر انداز کریں گے  
 (B) سرپرست کو فون کر کے غصہ کریں گے  
 (C) اس کے گھر جا کر ملاقات کریں گے  
 (D) طالب علم کو سزا دیں گے



- .64 طلباء کی توجہ کو تدریسی عمل پر مرکوز رکھنے کیلئے ایک معلم کو کیا کرنا چاہیے۔  
 (A) بورڈ کا استعمال (B) طلباء سے سوالات  
 (C) کہانی سنانا (D) لطیفہ سنانا
- .65 ایک معلم کے لیے ضروری ہے کہ وہ۔  
 (A) کلاس میں نظم و ضبط قائم کرے (B) وقت پر اسکول آئے  
 (C) طلباء کی مشکلات حل کرے (D) ایک اصولی شخص ہو
- .66 طلباء کو اسکول میں کھیل کے مواقع فراہم کرنے چاہیے کیونکہ اس سے  
 (A) طلباء کی جسمانی صحت اچھی ہوتی ہے (B) خالی گھنٹے گزارنے کیلئے ضروری ہے  
 (C) اساتذہ کو آرام ملتا ہے (D) ان میں باہمی تعاون اور جسمانی توازن پیدا ہوتا ہے
- .67 بچے کی سب سے پہلی درس گاہ ہوتی ہے۔  
 (A) ماں کی گود (B) باپ کی شفقت  
 (C) مکتب (D) اسکول
- .68 معلم کا کام  
 (A) طلباء کو معلومات فراہم کرنا ہے (B) طلباء کی تعلیم و تربیت کرنا ہے  
 (C) طلباء کو سزا دینا ہے (D) طلباء کا امتحان لینا ہے
- .69 آپ کو تدریس کے پیشے سے دلچسپی ہے کیونکہ اس میں  
 (A) تعطیلات زیادہ ہوتی ہے (B) اس میں کم کام ذمہ داری ہوتا ہے  
 (C) آپ ذاتی رجحان رکھتے ہیں (D) اس میں کم کام کرنا ہوتا ہے
- .70 D.El.Ed کا کورس کرنے کے بعد بھی معلم کو دوران ملازمت تربیت کی ضرورت ہوتی ہے  
 (A) مجھے اس سے اتفاق نہیں ہے (B) معلم کو جدید تحقیقات سے آگاہ ہونا ضروری ہے  
 (C) اس بہانے اسکول سے چھٹی مل جاتی ہے (D) نئے لوگوں سے ملاقات ہوتی ہے

### ذہنی آزمائش - (General Mental Ability)

- I اعداد کی سیریز کو مکمل کیجیے۔
- 71 1, 3, 5, .....  
 (A) 6 (B) 7 (C) 9 (D) 8
- 72 4, 9, 16, .....  
 (A) 21 (B) 29 (C) 25 (D) 17

100, 400, 900 ..... .73

1000 (D) 1400 (C) 1200 (B) 1600 (A)

-II سوالیہ علامت کی جگہ پر مناسب ترین لفظ لکھیے۔

.74 .....؟ ریاست : : ریاست : ملک

(A) شہر (B) اضلاع (C) دیہات (D) تعلقے

.75 .....؟ نیند : : بھوک : غذا

(A) تھکن (B) خواب (C) رات (D) صحت

.76 .....؟ لفظ : : ' گہرائی : کنواں

(A) کتاب (B) الفاظ (C) معانی (D) حروف

III : ذیل کے مربعوں کے باہر لکھے ہوئے چار اعداد کا مربع کے اندر لکھے ہوئے عدد سے خاص تعلق ہے۔ اس تعلق کی بنیاد پر سوالیہ نشان کی جگہ کون سا عدد آئے گا۔

1	2	2	3	3	4	.77
4	3	5	4	6	5	

45 (D) 54 (C) 56 (B) 15 (A)

1	4	2	5	3	6	.78
2	3	3	4	4	5	

41 (D) 14(C) 54 (B) 45 (A)

?	14	6	9	1	4	.79
12	13	7	8	2	3	

15 (D) 13 (C) 12 (B) 11 (A)

## -IV صحیح رشتہ پہچانیے۔

80. ایک شخص نے ایک تصویر دکھا کر کہا کہ 'میرا کوئی بھائی یا بہن نہیں ہے۔ اس لڑکے کے والد میرے والد کے بیٹے ہیں۔  
بتائیے تصویر کس کی ہے؟

(A) بیٹا (B) خود (C) والد (D) بھانجہ

81. یہ خاتون میرے دادا کے اکلوتے بیٹے کی لڑکی ہے۔ بتائیے یہ میری کون ہے؟

(A) پھوپھی (B) خالہ (C) تائی (D) بہن

82. میری بہن کی والدہ کے والد کی بیوی سے میرا کیا رشتہ ہوگا؟

(A) دادی (B) ممانی (C) نانی (D) چاچی

## V غیر متعلق لفظ شناخت کیجیے۔

83. (A) معلم (B) اسکول (C) تجربہ گاہ (D) بازار

84. (A) بکری (B) گائے (C) بھینس (D) بیل

85. (A) LPG گیس (B) کونکہ (C) پٹرول (D) ڈیزل

## -VI مطلب بیان کیجیے۔


86. 'الاستمدا' میں کتنے جوڑ حروف ہیں۔

(A) 7 (B) 6 (C) 8 (D) 9

87. عید الفطر میں کتنے حروف ساکن ہیں

(A) دو (B) تین (C) ایک (D) کوئی نہیں

88. ڈاکٹر اور نرس انسان ہیں: اس کو ظاہر کرنے والی شکل کون سی ہے۔



## -VII وہ عدد کون سا؟

89. 10 میٹر ضلع والے مربع کے احاطے پر ہر 5 میٹر پر ایک کھوٹی لگائی جائے تو ان کی جملہ تعداد کیا ہوگی؟

(A) 4 (B) 10 (C) 8 (D) 12

90. 250 سینٹی میٹر کو میٹر میں کیسے لکھیں گے

(A) 25.0 میٹر (B) 2.5 میٹر (C) .250 میٹر (D) 0.0250 میٹر

.91 200 کا 25 فی صد کتنا ہوگا

8 (D) 225 (C) 50 (B) 25 (A)

-VIII درج ذیل حالات میں آپ کیا کریں گے؟

.92 حادثے میں زخمی شخص کو دیکھ کر

(A) فوراً وہاں سے چلے جائیں گے  
(B) خاموشی سے دیکھتے رہیں گے  
(C) فوری دوا خانہ لے جانے کا نظم کریں گے  
(D) پولیس کو مطلع کریں گے

.93 آپ کا نام ووٹرسٹ میں ہے۔ اس لیے آپ الیکشن کے دن

(A) آرام کریں گے  
(B) ووٹ ڈالنے جائیں گے  
(C) صرف لوگوں کو ووٹ دینے کی ترغیب کریں گے۔  
(D) کچھ بھی نہیں کریں گے

.94  $3x+5x=40$  ہو تو  $x$  کی قیمت

6 (D) 4 (C) 8 (B) 5 (A)

.95 چوکون میں مناسب علامت لکھئے:

 $(15+3) \div 9$   $(3 \times 2)$  $\leq$  (D) = (C) < (B) > (A)

.96 کلاس کی لمبائی 8 میٹر اور چوڑائی 5 میٹر ہے۔

اس میں 2' لمبے اور 2' میٹر چوڑے کتنے فرش کے ٹکڑے درکار ہوں گے۔

10 (D) 40 (C) 20 (B) 15 (A)

ذیل کے جملے میں مکمل کیجیے:

.97 یہ منہ اور.....

(A) چنے کی دال (B) مسور کی دال (C) ماش کی دال (D) زبان

.98 آسمان سے گرا.....

(A) زمین پر پڑکا (B) چکنا چور ہوا (C) کھجور میں اٹکا (D) اور مرا

.99 ایک بند گھڑی 24 گھنٹوں میں کتنی بار صحیح وقت بتاتی ہے۔

(A) دو مرتبہ (B) کبھی نہیں (C) ایک مرتبہ (D) نہیں معلوم

.100 -7 اس کا متضاد عدد کیا ہوگا

(A) +7 (B) 14 (C) 3.5 (D)  $\frac{1}{7}$ 

☆☆☆







