

دستخط نگران کار

Booklet Serial No.

مولانا آزاد نیشنل اردو یونیورسٹی

انٹرنس ٹسٹ برائے ڈی ایل۔ ایڈ 2018

D. El.Ed. Entrance Test 2018

کتابچہ پرچہ سوالات Question Paper Booklet

نمبرات : 100

Hall Ticket No.

وقت : دو گھنٹے

OMR Serial No.

امیدواروں کے لیے ہدایات

نوٹ: یہ کتابچہ چار حصوں پر مشتمل ہے۔ حصہ 'الف' (A) عام معلومات (General Knowledge)، عمومی اردو (General Urdu)، عمومی انگریزی (General English) اور حصہ 'ب' (B) تدریسی رجحان (Teaching Aptitude) اور عمومی ذہنی آزمائش (General Mental Ability) پر مشتمل ہے۔

1. اوپر فراہم کی گئی جگہ پر امیدوار اپنا OMR اور ہال ٹکٹ نمبر لکھیں۔ اس کے علاوہ کتابچے میں کسی بھی صفحے پر ہال ٹکٹ نمبر، OMR نمبر یا اپنا نام نہ لکھیں۔
2. یہ پرچہ سوالات کل 16 صفحات پر مشتمل ہے۔ آخر کے 2 صفحات Rough Work کے لیے ہیں۔ اگر اس کتابچے میں صفحات کم ہوں یا اس کی ترتیب میں کوئی غلطی ہو تو جوابات لکھنے سے پہلے ہی نگران کار سے اسے تبدیل کروالیں۔
3. اس کتابچے میں جملہ 100 معروضی سوالات ہیں۔ ہر سوال کے نیچے 4 متبادل (A) (B) (C) (D) جوابات دیے گئے ہیں۔ سوال کے صحیح جواب کا انتخاب کیجیے۔ پھر OMR جوابی بیاض میں اپنے منتخب کردہ جواب کے دائرے کو صرف Blue / Black Ballpoint Pen سے گہرا کیجیے۔

4. امیدوار کو نمبرات صرف OMR جوابی بیاض میں صحیح جواب دینے پر دیے جائیں گے۔ اگر اس کتابچے میں امیدوار نے جواب پر نشان لگایا ہو لیکن OMR میں دائرے کو گہرا نہ کیا ہو تو ایسی صورت میں امیدوار کو کوئی نمبر نہیں ملے گا۔
5. اگر ایک سے زیادہ دائروں کو گہرا کیا گیا ہو تو اس سوال کے نمبر نہیں ملیں گے۔
6. غلط جواب پر کوئی Negative Marks نہیں ہے۔
7. انٹرنس ٹسٹ کے اختتام پر امیدوار کتابچہ پرچہ سوالات اپنے ساتھ لیجا سکتے ہیں۔

☆☆☆

حصہ الف (Part - A)
عام معلومات - General knowledge

1. مولانا ابوالکلام آزاد کی پیدائش کس شہر میں ہوئی تھی؟
 - (A) کلکتہ
 - (B) دہلی
 - (C) مکہ شریف
 - (D) حیدرآباد
2. مولانا آزاد نیشنل اردو یونیورسٹی کے پہلے وائس چانسلر کون تھے؟
 - (A) پروفیسر شمیم بے راجپوری
 - (B) پروفیسر اے۔ ایم۔ پٹھان
 - (C) پروفیسر محمد میاں
 - (D) ان میں سے کوئی نہیں
3. زمین جب اپنے محور پر گھومتی ہے تو
 - (A) موسم بدلتے ہیں
 - (B) دن رات ہوتے ہیں
 - (C) بارش ہوتی ہے
 - (D) دن چھوٹے ہوتے ہیں
4. زمین کی کتنی گردشیں ہوتی ہیں
 - (A) چار
 - (B) دو
 - (C) تین
 - (D) ایک
5. محمد انینگٹو اور نیشنل کالج کو قائم کرنے والے رہنما ہیں۔
 - (A) مولانا آزاد
 - (B) ڈاکٹر ذاکر حسین
 - (C) علامہ اقبال
 - (D) سر سید احمد خان
6. ہمارے ملک کے موجود صدر جمہوریہ کون ہیں؟
 - (A) شری محمد حامد انصاری
 - (B) ڈاکٹر اے۔ پی۔ جے عبدالکلام
 - (C) شری رام ناتھ کوویند
 - (D) شری راج ناتھ سنگھ
7. ذیل میں سے کون سی تصنیف مولانا ابوالکلام آزاد کی ہے؟
 - (A) آثار الصنادید
 - (B) اکبر نامہ
 - (C) غبارِ خاطر
 - (D) کارآمدِ تعلیم
8. OIC کا نام فارم کیا ہے
 - (A) Organisation of the Islamic Conference
 - (B) Organisation of Islamic Countries
 - (C) Organisation of Freeland Conference
 - (D) ان میں سے کوئی نہیں

9. ہندوستان کا قومی جانور کون سا ہے؟
 (A) شیر
 (B) گائے
 (C) بنگال ٹائیگر
 (D) ہاتھی
10. وٹامن سی (C) کی کمی سے کون سی بیماری ہوتی ہے؟
 (A) اسکرووی Scurvy
 (B) رٹونڈھی Night Blindness
 (C) گھینگا
 (D) میعادہ بخار
11. ہندوستان کا پہلا خلا باز (Astronaut) کون تھا؟
 (A) راجیش شرما
 (B) راکیش شرما
 (C) ارجن سنگھ
 (D) کلپنا چاؤلہ
12. نہر سوئز (Suez Canal) کن دو براعظموں کو تقسیم کرتی ہے؟
 (A) نارٹھ امریکہ اور ساؤتھ امریکہ
 (B) افریکہ اور ایشیا
 (C) یورپ اور ایشیا
 (D) امریکہ اور یورپ
13. انسان کے بچے کے پیدائش کے وقت جسم میں کل کتنی ہڈیاں ہوتی ہیں؟
 (A) 280
 (B) 260
 (C) 270
 (D) 290
14. متاثرہ کتے کے کاٹنے سے کون سی بیماری ہوتی ہے؟
 (A) ریبیس (Rabbies)
 (B) اسکروبی
 (C) طاعون (Plaque)
 (D) ان میں سے کوئی نہیں
15. آسام کا صدر مقام ہے
 (A) امپھال
 (B) اناگر
 (C) دس پور (Dispur)
 (D) شیلانگ
16. بلند دروازہ کس شہر میں ہے؟
 (A) دہلی
 (B) آگرہ
 (C) فتح پوری سیکری
 (D) حیدرآباد
17. ذیل میں سے کون سا سیارہ سورج سے تیسرے نمبر پر ہے؟
 (A) عطارد (Mercury)
 (B) زہرہ (Venus)
 (C) زمین (Earth)
 (D) یورینس (Uranus)

18. راجپوگانڈھی کھیل رتن ایوارڈ 2017ء میں ہاکی (Hockey) میں کس کو ملا؟
- (A) سردار سنگھ
(B) دیویندر سنگھ
(C) بلیر سنگھ
(D) سندیب سنگھ
19. دادا پھالکے ایوارڈ کو حکومت ہند نے کس سن سے شروع کیا؟
- (A) 1970
(B) 1969
(C) 1980
(D) 1979
20. 2017 کا دادا صاحب پھالکے ایوارڈ کس کو دیا گیا؟
- (A) امیتا بھ بچن
(B) عامر خان
(C) کاشی ناتھونی وشواناتھ
(D) لیش چو پڑا

عمومی اردو - General Urdu

21. فعل ماضی کی کتنی قسمیں ہیں؟
- (A) چار
(B) پانچ
(C) چھ
(D) سات
22. 'ابد' کے لغوی معنی کیا ہیں؟
- (A) بدی کی جمع
(B) ہمیشہ
(C) ہمیشہ زندہ رہنے والا
(D) بندہ
23. ”ناک رگڑنا“ ایک محاورہ ہے جس کا معنی ہے؟
- (A) خوشامد کرنا
(B) ناک دھونا
(C) سجدہ کرنا
(D) مانگنا
24. 'کفن' کس کا افسانہ ہے؟
- (A) راجندر سنگھ بیدی
(B) سعادت حسن منٹو
(C) کرشن چندر
(D) پریم چند
25. ”میں آج اسکول پیدل جاؤں گا“ اس جملے میں فاعل بتائیے۔
- (A) آج
(B) میں
(C) اسکول
(D) پیدل

26. 'شاہ' کی ضد بتائیے۔
 (A) فقیر
 (B) غریب
 (C) گدا
 (D) مفلس
27. غلام کا مونث بتائیے۔
 (A) نوکر
 (B) نوکرانی
 (C) باندی
 (D) ان میں سے کوئی نہیں
28. تخلص کیا ہے؟
 (A) اسم مذکر
 (B) ضمیر
 (C) اسم فاعل
 (D) اسم معرفہ
29. رباعی میں کتنے مصرعے ہوتے ہیں؟
 (A) دو
 (B) تین
 (C) چار
 (D) پانچ
30. ان میں سے کون مشہور ناول نگار ہے؟
 (A) ڈپٹی نذیر احمد
 (B) نظیر اکبر آبادی
 (C) علامہ شبلی نعمانی
 (D) مولانا الطاف حسین حالی

عمومی انگریزی - General English

Fill in the blanks with correct answers

31. apple isfruit.
 A) The, a
 B) An, a
 C) An, the
 D) The, an
32. I bought cow and ox.
 A) An, an
 B) The, the
 C) An, the
 D) A, an
33. As the festival approaches the number of customers
 A) increases
 B) is increases
 C) will be increased
 D) will have increased

34. Truth is always stronger than
- A) History B) Flasehood
C) Fiction D) Hiding
35. She is my father. Which is wrong word.
- A) Is B) She
C) My D) None of the above
36. I saw a of robbers.
- A) Group B) Band
C) Flock D) Pack
37. Choose the correct synonym of the word 'Beautiful'.
- A) Pretty B) Ugly
C) Homely D) Clumsy
38. The rule of person who is tyrant
- A) Autocracy B) Dictatorship
C) Aristocracy D) Tyranny
39. Who discovered India (put correct punctuation sign.)
- A) ? B) !
C) . D) —
40. A government of the people, for the people and by the people.
- A) Bureaucracy B) Democracy
C) Monarchy D) Aristocracy

حصہ ب (Part - B)

تدریسی رجحان - Teaching Aptitude

41. اگر معلم دوران تدریس کوئی غلطی کر دیتا ہے تو اسے مندرجہ ذیل میں سے کیا کرنا چاہیے۔
- (A) وہ اپنی غلطی کو مان لے (B) وہ اسے بھلانے کی کوشش کریں
(C) غلطی کرے اور بھول جائے (D) اس کے تئیں انجان بن جائے

42. ایک موثر تدریس میں مندرجہ ذیل خوبی نہیں ہوتی۔
 (A) بحث۔ مباحثہ
 (B) گھر کے کام کا بوجھ
 (C) مسئلہ کو حل کرنے کے طریقے کا فروغ
 (D) سبق کو رٹنا
43. اگر طالب علم درجہ جماعت میں اونگھ رہا ہے تو اس کا مطلب ہے۔
 (A) معلم کی تدریس موثر نہیں ہے
 (B) طالب علم تدریس میں دلچسپی نہیں رہا ہے
 (C) طالب علم رات میں مکمل سویا نہیں ہے
 (D) طالب علم تھکا ہوا ہے
44. معلم کے ذریعے دیے جانے والے گھر کے کام کی مقدار اور قسم کو طے کرنا چاہیے۔
 (A) طلبہ کی رائے سے
 (B) موادِ مضمون کی پیچیدگی کے مطابق
 (C) گھر کے کام سے پیدا ہوئے سیکھنے کے عمل کے ذریعے
 (D) ان میں سے کوئی نہیں
45. معلم کو اپنے کام میں اعلیٰ صلاحیت رکھنے کے لیے مندرجہ ذیل میں کیا کرنا چاہیے۔
 (A) اسکول میں ہونے والے سبھی سمینار میں حصہ لینا
 (B) اپنے مضمون سے متعلق نئی کتابوں کا مطالعہ
 (C) اپنے مضمون میں لکھتے رہنا چاہیے۔
 (D) درج بالا میں سبھی
46. اسکول میں کچھ طلبہ اوسط درجے سے نیچے ہیں۔ آپ اس اسکول کے صدر مدرس ہیں اس لیے ان طلبہ کے تئیں آپ کی کیا ذمہ داری بنتی ہے؟
 (A) اسکول کے سبھی طلبہ کے ساتھ مساوی طرز عمل ہوگا
 (B) اوسط سے نیچے کے طلبہ کو اسکول سے نکلنے کا ارادہ
 (C) ان طلبہ کے تئیں شفقت رکھنا
 (D) کوئی خاص توضیح نہیں دینا
47. آپ صدر مدرس کی حیثیت سے کسی معلم کے اچھے کاموں کے لیے کیا کریں گے؟
 (A) سبھی تدریسی عملہ کے سامنے اس معلم کی تعریف کریں گے
 (B) طلبہ کے سامنے اس معلم کی مثال پیش کریں گے
 (C) وقت وقت پر اسے متحرک کرنا
 (D) درج بالا میں سبھی
48. بنیادی تعلیم (Basic Education) کے نظریہ کو رائج کرنے والے رہنما کا نام کیا ہے۔
 (A) مولانا ابوالکلام آزاد
 (B) مہاتما گاندھی
 (C) سر سید احمد خان
 (D) رادھا کرشنن
49. یوم اساتذہ کن کی پیدائش کے دن منایا جاتا ہے؟
 (A) پنڈت جواہر لال نہرو
 (B) مہاتما گاندھی
 (C) رادھا کرشنن
 (D) ونو باجھوے
50. بچہ کا ابتدائی معلم ہوتا ہے؟
 (A) باپ
 (B) ماں
 (C) ساتھی
 (D) مذہبی رہنما

51. غیر رسمی تعلیم سے فائدہ ہوتا ہے۔
 (A) تختانوی تعلیم کو عام کرنا
 (B) ترک تعلیم کو کم کرنا
 (C) ناخواندگی کو دور کرنا
 (D) ان میں سے کوئی نہیں
52. طلبہ کا رویہ اساتذہ سے ایسا ہونا چاہیے۔
 (A) عقیدت مندانہ
 (B) حکم کی تعمیل کرنا
 (C) دوستانہ
 (D) بے پرواہ
53. اکثر مقامات پر تعلیمی نظام ایسا ہے۔
 (A) معلم مرکوز
 (B) درسی کتاب مرکوز
 (C) طالب علم مرکوز
 (D) سماج مرکوز
54. سماج کا مدرسہ سے تعلق بڑھانے کے لیے
 (A) تفریح کے پروگرام بنانا
 (B) طلبہ کا سماجی کاموں میں حصہ لینا
 (C) سماجی تنظیموں میں شامل ہونا
 (D) قومی تیو ہار منانا
55. تعلیمی تفریح سے طلبہ کو بچنے والا فائدہ
 (A) دیدہ زیب مقامات کا نظارہ
 (B) علم میں اضافہ
 (C) ذہنی نشوونما
 (D) طلبہ میں اجتماعیت کا فروغ
56. گھر کا کام دینے سے طلبہ میں
 (A) آسانی سے کر کے سیکھنے کا خیال پیدا ہونا
 (B) سوچنے کی صلاحیت کو فروغ دینا
 (C) دوسروں پر منحصر ہونے کے قابل بنانا
 (D) مشکل نہ ہونے کا خیال پیدا کرنا
57. SUPW کا اہم مقصد ہے
 (A) مدرسہ کو مزید مالی امداد فراہم کرنا
 (B) روزمرہ کی زندگی میں کام آنے والے ہنر سیکھنا
 (C) اپنی ضرورت کی چیزیں خود تیار کرنا
 (D) ہمہ قسم کے اشیاء سے متعلق علم
58. تعلیم کے خاص مقاصد کا اہم منبع ہے
 (A) انسانی تجربے
 (B) تجارتی تنظیم
 (C) تعلیم دینے والے اسکول
 (D) تعلیمی نفسیات
59. تمام ماہرین تعلیم کا یہ اقرار ہے کہ تعلیم ہونی چاہیے۔
 (A) صرف علمی فروغ کے لیے
 (B) طرز عمل میں مثبت تبدیلی لانے کے لیے
 (C) انسان کو اس کے ماحول سے مطابقت پیدا کرنے کے لیے
 (D) ان میں سے کوئی نہیں

60. پرائمری سطح کے نصاب کا جھکاؤ ہونا چاہیے۔
 (A) موادِ مضمون کی طرف
 (B) تمام مضامین میں اعلیٰ صلاحیت پیدا کرنے کے لیے
 (C) سماجی فروغ کے لیے
 (D) طلبہ کی ہمہ جہت فروغ کے لیے۔
61. فطری صلاحیت / رجحان (Aptitude) سے مراد۔
 (A) شخص کی حاصل کردہ مہارت
 (B) شخص کی Potentiality
 (C) فرد کو ملازمت دینے والی اہمیت
 (D) فرد کی موجودہ صلاحیت
62. کچھ عرصہ سے معلم کا مقام گرتا جا رہا ہے۔ ایسا کیوں خیال کیا جا رہا ہے؟
 (A) اساتذہ اپنے فرائض کو ٹھیک طرح سے نہیں انجام دے رہے ہیں
 (B) کم تنخواہیں
 (C) سروس کنڈیشن اطمینان بخش نہیں ہے
 (D) ان میں سے کوئی نہیں
63. کس نے یہ تبصرہ کیا ”معلم سے بلند مقام کوئی حاصل نہیں کر سکتا“۔
 (A) سنڈری ایجوکیشن کمیشن 1952
 (B) ایجوکیشن کمیشن (1964-66)
 (C) قومی تعلیمی پالیسی 1986
 (D) جامعہ
64. فطری صلاحیت ان میں سے کس کے مساوی ہوتی ہے؟
 (A) فرد کی مہارتیں
 (B) فرد کی مکمل صلاحیت
 (C) مہارت حاصل کرنے کے لیے فرد کو درکار صلاحیت
 (D) ان میں سے کوئی نہیں
65. کمرہ جماعت میں طلبہ کی معیاری تعداد ہونی چاہیے۔
 (A) 50
 (B) 25
 (C) 40
 (D) 30
66. اسکول میں کھیل کود کی تقریب منعقد کرنے سے
 (A) درس و تدریس کے کام کا نقصان ہوتا ہے
 (B) وقت اور پیسوں کی بربادی ہوتی ہے
 (C) طلبہ کو آرام ملتا ہے
 (D) طلبہ میں ذہنی اور جسمانی فروغ ہوتا ہے
67. DIET کا فل فارم کیا ہے؟
 (A) Department of Indian Education and Training
 (B) Delhi Institute of Education & Training
 (C) District Institute of Education and Training
 (D) Direct Institute of Education and Training

68. ٹیم میں کھیلنے سے طلبہ میں کون سے جذبات کا فروغ ہوگا۔

(A) مدد کرنے کا (B) حسد

(C) مقابلہ (D) لگاؤ

69. آپ اسکول میں وارڈن (Warden) ہیں۔ آپ کے گھر میں ایک تقریب منعقد کی جانی ہے۔

(A) آپ اسکول کے فرنیچر کو گھر لے جائیں گے (B) طلبہ سے اپنے گھر کا کام کرائیں گے

(C) متعلقہ افسر کی اجازت سے ہی اسکول کے سامان کو اصول کے مطابق استعمال کریں گے (D) ان میں سے سبھی

70. آپ کی رائے میں آج کل کے معلم ہیں۔

(A) سبھی خراب ہیں (B) سبھی اچھے ہیں

(C) خود غرض اور چالاک (D) کچھ اچھے اور کچھ خراب

عمومی ذہنی آزمائش - (General Mental Ability)

-I اعداد کی سیریز کو مکمل کیجیے۔

71. 2, 5, 11, 47, 95

(A) 19 (B) 21

(C) 23 (D) 27

72. 5, 17, 37, 101, 145

(A) 57 (B) 65

(C) 69 (D) 73

73. 45, 34, 25, 18, 13

(A) 6 (B) 8

(C) 9 (D) 10

-II سوالیہ علامت کی جگہ پر مناسب ترین لفظ لکھیے۔

74. برف : بھاپ :: ٹھنڈا :

(A) برف (B) آگ

(C) گرم (D) پانی

75. حروف : لفظ :: لفظ

- (A) آواز
(B) جملہ
(C) لغت
(D) قاموس

76. دھواں : آلودگی :: جنگ:

- (A) جیت
(B) موت
(C) دشمن
(D) فوج

-III صحیح رشتہ پہچانیے۔

77. اگر فرقان کہتا ہے کہ 'اجمل کے والد میرے والد کے اکلوتا بیٹا ہے' تو فرقان کا اجمل سے کیا رشتہ ہوا۔

- (A) بیٹا
(B) بہن
(C) والد
(D) ان میں سے کوئی نہیں

78. ایک شخص کا تعارف کراتے ہوئے ایک خاتون نے کہا۔ "اس کی بیوی میری ماں کی اکلوتی لڑکی ہے"۔ اس عورت کا اس آدمی سے کیا رشتہ ہے؟

- (A) سالی
(B) بیوی
(C) ساس
(D) چاچھی

79. میرے چاچا کی والدہ کے شوہر سے میرا کیا رشتہ ہوگا؟

- (A) نانا
(B) چاچا
(C) دادا
(D) ماما

IV غیر متعلق لفظ شناخت کیجیے۔


80. (A) چاندی (B) سونا (C) لوہا (D) ہیرا
81. (A) بیل (B) بھالو (C) شیر (D) مرغی
82. (A) گنگا (B) گوداوری (C) کرشنا (D) نرملا
83. (A) پٹنہ (B) رائے پور (C) بھوپال (D) کانپور

-V مطلب بیان کیجیے۔

84. عیدالاضحیٰ میں کتنے حروف ساکن ہیں؟

- (A) ایک
(B) دو
(C) تین
(D) چار

85. گائے اور ہاتھی جانور ہیں۔ اس کو ظاہر کرنے والی شکل کون سی ہے؟



-VI وہ عدد کون سا؟

86. 450 سنٹی میٹر کو میٹر میں کیسے لکھیں گے؟

- (A) 4.5 میٹر (B) 45 میٹر
(C) .45 میٹر (D) 0.045 میٹر

87. 200 کا 1.5 فیصد کتنا ہوگا؟

- (A) 3 (B) 1.5
(C) 4 (D) 2.5

88. ایک کلومیٹر میں کتنے میٹر ہوتے ہیں؟

- (A) 10,000 (B) 1000
(C) 1100 (D) 2000

-VII درج ذیل حالات میں آپ کیا کریں گے؟

89. اگر آپ کسی شہر میں راستہ بھول جائیں تو آپ
(A) موجود پولیس آفس سے راستہ معلوم کریں گے
(B) خود سے راستہ تلاش کریں گے
(C) وہاں موجود لوگوں سے راستہ معلوم کریں گے
(D) ان میں سے کوئی نہیں

90. $5x + 7x = 48$ ہو تو X کی قیمت کیا ہوگی؟

- (A) 3 (B) 5
(C) 4 (D) 6

91. چوکون میں مناسب علامت لکھیے۔

$(12 + 6) \div 3$ (3×2)

- (A) > (B) <
(C) = (D) ان میں سے کوئی نہیں

.92 $(? \div 4) \times 6 = 48$

12 (B) 36 (A)

32 (D) 24 (C)

.93 تبسم ایک گھنٹے میں 5 کیلومیٹر پیدل چلتی ہے تو وہ 6 گھنٹے میں کتنے کیلومیٹر پیدل چلے گی؟

30 (B) 35 (A)

36 (D) 25 (C)

.94 $3 + 3 \div 3 = ?$

2 (B) 3 (A)

4 (D) 4 (C)

VIII ذیل کے جملے مکمل کیجیے:

.95 آم کے آم اور

(A) گھٹلی کے دام

(B) چھلکے کے دام

(C) گھٹلیوں کے دام

(D) رس کے دام

.96 اب آیا اونٹ پہاڑ کے

(A) اوپر

(B) کی طرف

(C) نیچے

(D) ان میں سے کوئی نہیں

.97 نیکی کر دریا میں

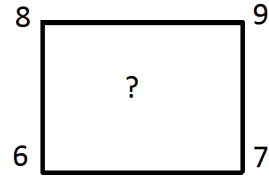
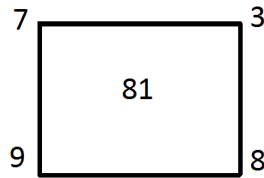
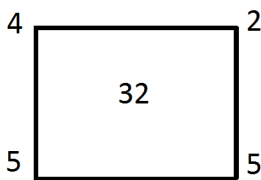
(A) پھینک

(B) رکھ

(C) بہا

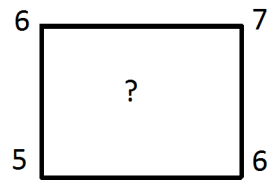
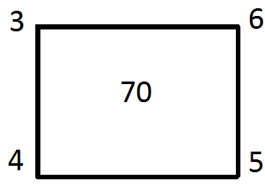
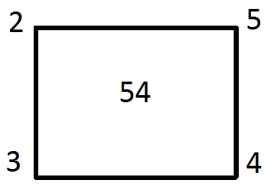
(D) ڈال

IX ذیل کے مربعوں کے باہر لکھے ہوئے چار اعداد کا مربع کے اندر لکھے ہوئے عدد سے خاص تعلق ہے۔ اس تعلق کی بنیاد پر سوالیہ نشان کی جگہ کون سا عدد آئے گا۔



115 (B) 120 (A)

111 (D) 110 (C)



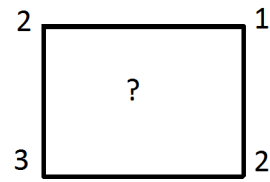
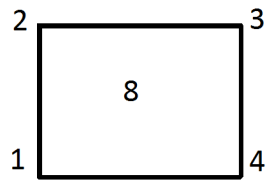
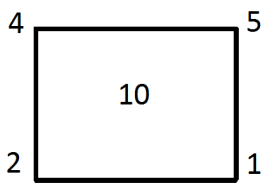
.99

96 (B)

80 (A)

76 (D)

86 (C)



.100

4 (B)

6 (A)

5 (D)

8 (C)

☆☆☆

Rough Work

Rough Work