

دستخط نگران کار

Booklet Serial No.

مولانا آزاد نیشنل اردو یونیورسٹی

انٹرنس ٹسٹ برائے ڈی ایل۔ ایڈ۔ 2019

D. El.Ed. Entrance Test 2019

کتابچہ پرچہ سوالات Question Paper Booklet

نمبرات : 100

Hall Ticket No.

وقت : دو گھنٹے

OMR Serial No.

امیدواروں کے لیے ہدایات

نوٹ: یہ کتابچہ چار حصوں پر مشتمل ہے۔ حصہ الف (A) عام معلومات (General Knowledge)، عمومی اردو (General Urdu)، عمومی انگریزی (General English) اور حصہ ب (B) تدریسی رجحان (Teaching Aptitude) اور عمومی ذہنی آزمائش (General Mental Ability) پر مشتمل ہے۔

1. اوپر فراہم کی گئی جگہ پر امیدوار اپنا OMR اور ہال ٹکٹ نمبر لکھیں۔ اس کے علاوہ کتابچے میں کسی بھی صفحے پر ہال ٹکٹ نمبر، OMR نمبر یا اپنا نام نہ لکھیں۔
2. یہ پرچہ سوالات کل 16 صفحات پر مشتمل ہے۔ اگر اس کتابچے میں صفحات کم ہوں یا اس کی ترتیب میں کوئی غلطی ہو تو جوابات لکھنے سے پہلے ہی نگران کار سے اسے تبدیل کروالیں۔

3. اس کتابچے میں جملہ 100 معروضی سوالات ہیں۔ ہر سوال کے نیچے 4 متبادل (A) (B) (C) (D) جوابات دیے گئے ہیں۔ سوال کے صحیح

جواب کا انتخاب کیجیے۔ پھر OMR جوابی بیاض میں اپنے منتخب کردہ جواب کے دائرے کو صرف Blue / Black Ballpoint Pen سے گہرا کیجیے۔

4. امیدوار کو نمبرات صرف OMR جوابی بیاض میں صحیح جواب دینے پر دیے جائیں گے۔ اگر اس کتابچے میں امیدوار نے جواب پر نشان لگایا ہو لیکن OMR میں دائرے کو گہرا نہ کیا ہو تو ایسی صورت میں امیدوار کو کوئی نمبر نہیں ملے گا۔

5. اگر ایک سے زیادہ دائروں کو گہرا کیا گیا ہو تو اس سوال کے نمبر نہیں ملیں گے۔

6. غلط جواب پر کوئی Negative Marks نہیں ہے۔

7. انٹرنس ٹسٹ کے اختتام پر امیدوار کتابچہ پرچہ سوالات اپنے ساتھ لیجا سکتے ہیں۔

☆☆☆

حصہ الف (Part - A)
عام معلومات - General knowledge

1. ہندوستان کے نائب صدر کو عہدے کا حلف کون دلاتا ہے؟
(A) اسپیکر
(B) صدر
(C) وزیراعظم
(D) بھارت کے چیف جسٹس
2. موسیقی آلہ ”ستار“ کا موجد:
(A) تان سین
(B) امیر خسرو
(C) منہاج السراج
(D) ضیاء الدین برنی
3. دریائے نیل اس سمندر میں ملتی ہے۔
(A) اراک سمندر
(B) کپسین سمندر
(C) بحر روم
(D) بحر اسود
4. اکبر کے دربار میں ”ضبط“ ٹیکس کو متعارف کرنے والا وزیر:
(A) بیربل
(B) توڈرل
(C) سنگرام سنگھ
(D) ابوالفضل
5. لوک سبھا کے پہلے انتخابات اس سال منعقد ہوئے۔
(A) 1947-48
(B) 1949-50
(C) 1951-52
(D) 1953-54
6. URL اس کو ظاہر کرتا ہے۔
(A) Uniform Locator Remote
(B) Locator Remote Unified
(C) Uniform Resource Locator
(D) Unified Resource Locator
7. مولانا ابوالکلام آزاد رونی کو 23 مرتبہ حاصل کرنے والی یونیورسٹی کا نام:
(A) پنجاب
(B) گروناک دیو یونیورسٹی
(C) کروکشر یونیورسٹی
(D) دہلی یونیورسٹی

8. 'ڈوؤاؤس' گھاس کے میدان یہاں پائے جاتے ہیں۔
 (A) آسٹریلیا
 (B) جنوبی افریقہ
 (C) ارجنٹائن
 (D) ریاست ہائے متحدہ امریکہ
9. مشترکہ فہرست میں شامل کرنے سے پہلے تعلیم کس فہرست میں شامل تھی۔
 (A) مرکزی فہرست
 (B) ریاستی فہرست
 (C) مرکزی اور ریاستی فہرست
 (D) دونوں میں بھی نہیں
10. قومی پرچم کے اشوک چکر میں کاڑیوں (Spokes) کی تعداد۔
 (A) 22
 (B) 23
 (C) 24
 (D) 25
11. دنیا کی سب سے طویل دریا ہے۔
 (A) برہم پتر
 (B) نیل
 (C) امیزان
 (D) گنگا
12. وہ نوبل انعام یافتہ شخصیت جن کو پہلا بھارتی رتن ایوارڈ دیا گیا۔
 (A) مدرٹریسا
 (B) رابندر ناتھ ٹیگور
 (C) سی۔ وی۔ رامن
 (D) امرتیہ سین
13. زلزلوں کی پیمائش کے لیے استعمال ہونے والا آلہ۔
 (A) Earthograph
 (B) Orthograph
 (C) Seismograph
 (D) Campass Mariners
14. نیوٹران کو اس نے دریافت کیا۔
 (A) تھامسن
 (B) چیڈوک
 (C) جان ڈالٹن
 (D) رچرڈ فورڈ
15. "کساح" (Rickets) اس کی کمی سے واقع ہوتی ہے۔
 (A) فولک ترشہ
 (B) ٹوکوفیرال
 (C) نیاسن
 (D) کیلسی فیروول

16. رعیت واری نظام کو متعارف کرنے والا۔
(A) ہیسننگس
(B) ڈلہوزی
(C) تھامس منرو
(D) جنرل دائر
17. UNDP کے انسانی ترقی انڈکس 2018 کے مطابق ہندوستان کا رینک ہے۔
(A) 129
(B) 130
(C) 131
(D) 132
18. درج ذیل میں سے یہ چیف الیکشن کمشنر اور دیگر کمیشنروں کا تقرر کرتا ہے۔
(A) ہندوستان کے وزیراعظم
(B) ہندوستان کے اٹارنی جنرل
(C) صدر جمہوریہ ہند
(D) سپریم کورٹ کے چیف جسٹس
19. یہ حکمران ”لاکھ پخش“ کہلاتا تھا۔
(A) اتمش
(B) ایک
(C) رضیہ
(D) بلبن
20. ہندوستان کی وہ ریاست جہاں سب سے زیادہ لوگ سبھا کے حلقے پائے جاتے ہیں۔
(A) آندھرا پردیش
(B) بہار
(C) مغربی بنگال
(D) اتر پردیش

عمومی اردو - General Urdu

21. غالب کس بادشاہ کے استاد تھے؟
(A) اورنگ زیب
(B) بہادر شاہ ظفر
(C) ہمایوں
(D) اکبر
22. لفظ ”شکست“ کی ضد۔
(A) شکوہ
(B) مایوسی
(C) فتح
(D) بے عزتی

23. قدیم کی جمع۔
(A) قدما
(B) اقدام
(C) قدیما
(D) ان میں سے کوئی نہیں
24. ہندوستان کی کس ریاست میں اردو کو پہلی سرکاری زبان کا موقف حاصل ہے؟
(A) اتر پردیش
(B) بہار
(C) تلنگانہ
(D) جموں و کشمیر
25. کتاب ”آثار الصنادید“ کس کی تصنیف ہے۔
(A) مرزا غالب
(B) سر سید احمد خاں
(C) الطاف حسین حالی
(D) شبلی نعمانی
26. دارالترجمہ کہاں قائم ہوا تھا۔
(A) دلی کالج
(B) ایم۔ اے۔ او کالج
(C) جامعہ ملیہ اسلامیہ
(D) جامعہ عثمانیہ
27. رباعی میں کتنے مصرعے ہوتے ہیں۔
(A) چار
(B) پانچ
(C) تین
(D) دو
28. صحیح املا کی نشاندہی کیجیے۔
(A) انجام
(B) انتظام
(C) انتزام
(D) انتظرام
29. ’سرفروشی‘ سے مراد
(A) خود اعتمادی
(B) شادمانی
(C) جان بازی
(D) سر جھکانا
30. مندرجہ ذیل میں سے کسے بابائے اردو کے نام سے جانا جاتا ہے۔
(A) مولوی عبدالحق
(B) ڈپٹی نذیر احمد
(C) الطاف حسین حالی
(D) مرزا اسد اللہ خاں غالب

General English - عمومی انگریزی

Fill in the blanks with correct answers

31. Jamia Millia Islamia is University.
A) an B) a
C) the D) X
32. Salim is in Saudi Arab. He has been their two weeks.
A) since B) for
C) from D) ago
33. I tennis every Sunday morning.
A) Playing B) am playing
C) play D) am play
34. Babies when they are hungry.
A) cry B) cries
C) cried D) are crying
35. What is the synonym of the word ' synopsis' ?
A) Suggestions B) Short Story
C) Short Form D) Sumamry
36. What is the proper sequence of the following sentence?
It has been established that
P : Einstein was
Q: although a great scientist
R: weak in arithmetic
S: right from his school days
A) SRPQ B) QPRS
C) QPSR D) RQPS
37. What is the proper sequence of the following sentence?
I read an advertisement that said
P: Posh, air-conditioned

Q: gentleman of taste

R: are available for

S: fully furnished rooms

A) PQRS

B) PSRQ

C) PSQR

D) SRPQ

38. To drive home means

A) to find one's root

B) to return to place of rest

C) back to original position

D) to emphasise

39. Find the correct spelt word.

A) Affedevit

B) Afidevit

C) Affidavit

D) Affidavit

40. One who studies insect life is known as

A) Geologist

B) Zoologist

C) Entomologist

D) Botanist

حصہ ب (Part - B)

تدریسی رجحان - Teaching Aptitude

41. بنیادی تعلیم (Basic Education) کے نظریہ کو رائج کرنے والا رہنما کا نام کیا ہے۔

(A) مولانا ابوالکلام آزاد

(B) مہاتما گاندھی

(C) سر سید احمد خان

(D) پنڈت جواہر لال نہرو

42. تعلیم تھی معنی خیز ہوگی جب:

(A) نصاب مرکوز ہو

(B) طلبا کو مرکوز ہو

(C) روزگار مرکوز ہو

(D) سماج مرکوز ہو

43. آپ اسکول سے باہر اپنے کسی طالب علم سے کس طرح پیش آئیں گے۔

(A) اجنبی کی طرح

(B) عزت و وقار

(C) طلبا کا اعتماد

(D) دوستوں کی طرح

44. معلم کے لیے سب سے قیمتی:
 (A) ان کی ملازمت ہے
 (B) عزت ووقار
 (C) طلبا کا اعتماد
 (D) تدریس کے تئیں ان کی خود اعتمادی
45. SUPW کس کا مخفف ہے۔
 (A) Socially Utilized Paper Work
 (B) Socially Useful Paper Work
 (C) Socially Useful Productive Work
 (D) Socially Useful Paper Work
46. کسی بھی اسکول میں والدین اور اساتذہ کی انجمن (PTA) کا بنیادی مقصد ہے۔
 (A) طلبا کو قابو میں رکھنا
 (B) ریڈیٹل (Remedial Teaching) کے لیے زائد فنڈ اکٹھا کرنا
 (C) اسکول کو درپیش مسائل سے اولیائے طلبا کو واقف کرانا
 (D) اولیائے طلبا کو اسکول کی کارکردگی کو بہتر بنانے میں شامل کرنا
47. تعلیمی ٹکنالوجی (ICT) اس لیے فائدہ مند ہے کیونکہ:
 (A) یہ وقت کا تقاضا ہے
 (B) مشہور اداروں نے اس کو اپنایا ہے۔
 (C) معلم کے لیے تدریس کو آسان بناتی ہے
 (D) یہ طلبا کو اکتساب کی جانب متوجہ کرتی ہے
48. ایک معلم سے متعلق درج ذیل تمام بیانات صحیح ہیں۔ سوائے ایک کے اور وہ یہ ہے کہ معلم:
 (A) دوست رہنما اور فلسفی ہوتا ہے
 (B) وہ ایسی باتیں سکھاتا ہے جو بچے نہیں جانتے
 (C) کمرہ جماعت کا لیڈر ہوتا ہے
 (D) اپنے رویے اور برتاؤ بدلتا رہتا ہے
49. RTE کا نفاذ کب ہوا؟
 (A) یکم اپریل 2010
 (B) 2 جولائی 2009
 (C) 26 اگست 2009
 (D) 4 اگست 2010
50. اسکول میں ہم نصابی سرگرمیوں کے انعقاد کا مقصد۔
 (A) بچوں کی خود اعتمادی کو پروان چڑھانا
 (B) طلبا میں مسابقت کے جذبے کو فروغ دینا
 (C) طلبا کے اکتسابی تجربات میں اضافہ کرنا
 (D) مندرجہ بالا تمام
51. طلبا کو نظم و ضبط کا پابند بنانے کے لیے سب سے موزوں طریقہ ہے۔
 (A) چھڑی کا استعمال کرنا
 (B) والدین کو شکایت کا نوٹس بھیجنا
 (C) طلبا کے مسائل کو ہمدردانہ طور پر حل کرنا
 (D) ان میں سے کوئی نہیں

52. آپ کی نظر میں تعلیم کا سب سے اہم مقصد حسب ذیل میں سے کون سا ہے۔
 (A) بچوں کی اخلاقی نشوونما
 (B) بچوں کی ہمہ جہت نشوونما
 (C) بچوں کی جسمانی ترقی
 (D) بچوں کی سماجی ترقی
53. شانتی نیکیتن کے بانی۔
 (A) اربندو گھوش
 (B) سوامی وویکانند
 (C) رابندر ناتھ ٹیگور
 (D) مدن موہن مالویہ
54. ایک اچھا معلم وہ ہے جو
 (A) سخت نظم و ضبط کا حامل ہو
 (B) سخت ترین امتحان لیتا ہو
 (C) اپنے مضمون کو لوگ تار سیکھتا رہے
 (D) آہستہ سیکھنے والوں کے لیے نرم دل ہو
55. ہندوستان میں ٹیچر ایجوکیشن کو تسلیم کرنے کا حق کسے حاصل ہے؟
 (A) NCTE
 (B) NCERT
 (C) CIET
 (D) NIEPA
56. نرسری تربیت کا اہم مقصد۔
 (A) بچوں کے والدین کو وقت فراہم کرنا
 (B) بچوں کو حروف تہجی سکھانا
 (C) بچوں کو سماجیانہ ان کے جوش و جذبہ کو ایک راہ پر لانا
 (D) گھروں کی یک سری کو دور کرنا
57. یوم اساتذہ کس عظیم شخصیت کے یوم ولادت کے موقع پر منایا جاتا ہے۔
 (A) پنڈت جواہر لال نہرو
 (B) مہاتما گاندھی
 (C) ڈاکٹر رادھا کرشنن
 (D) ونوبا بھاوے
58. اگر طالب علم کمرہ جماعت میں ادگھر رہا ہے تو اس کا مطلب ہے۔
 (A) معلم کی تدریس موثر نہیں ہے
 (B) طالب علم تدریس میں دلچسپی نہیں لے رہا ہے
 (C) طالب علم رات میں ٹھیک سے سویا نہیں ہے
 (D) طالب علم تھکا ہوا ہے
59. گھر کا کام (Home Work) دینے سے طلبا میں:
 (A) آسانی سے کر کے سیکھنے کا خیال پیدا ہوتا ہے
 (B) سوچنے کی صلاحیت کو فروغ ملتا ہے
 (C) دوسروں پر منحصر ہونے کے قابل ہو جاتا ہے
 (D) مشکل نہ ہونے کا خیال پیدا ہوتا ہے

60. نصاب کی تدوین میں کن باتوں کو خاص طور پر دھیان میں رکھنا چاہیے۔
 (A) تعلیم کے مقاصد کو
 (B) طلباء کی ضروریات، دلچسپی اور قابلیت کو
 (C) تعلیمی تحقیق کو
 (D) A اور B دونوں
61. اسکول میں کھیلوں کے انعقاد کا مقصد ہوتا ہے۔
 (A) طلباء کو کسی کام میں لگانا
 (B) صحت کو مضبوط بنانا
 (C) مسابقتی (Competitive) کھیلوں کے لیے تیار کرنا
 (D) بچہ کی ہمہ جہت نشوونما
62. تعلیم کے نشر و اشاعت سے:
 (A) جمہوریت مضبوط ہوتی ہے
 (B) توہم پرستی میں کمی آتی ہے
 (C) اقتصادی ترقی کی شرح میں اضافہ ہوتا ہے
 (D) ان میں سے سبھی
63. معلم خاص طور سے کس کے لیے جواب دہ ہوتا ہے۔
 (A) سماج اور طلباء کے لیے
 (B) صدر مدرس کے لیے
 (C) سرپرستوں کے لیے
 (D) سرکار (حکومت) کے لیے
64. معلم کے ذریعہ بھلائی ہوتی ہے
 (A) سماج کے سبھی طبقوں کی
 (B) مثالی خاندان کی
 (C) انسان کی شخصیت کی
 (D) طلبہ و طالبات کی
65. اگر کوئی سرپرست آپ سے کبھی ملنے نہیں آتا ہے تو آپ کیا کریں گے۔
 (A) بچے کو مزادیں گے
 (B) بچے پر دھیان نہیں دیں گے
 (C) ان سے خود ملنے جائیں گے
 (D) سرپرست کو لکھیں گے
66. کس فلسفی کا یہ کہنا تھا کہ بچے کا دماغ Blank Slate ہوتا ہے۔
 (A) روسو
 (B) پلوٹو
 (C) ایڈلر
 (D) بلر
67. مفت اور لازمی پرائمری تعلیم نافذ ہونے کے بعد۔
 (A) بچوں میں خواندگی بڑھی ہے
 (B) دیہی علاقوں میں خواندگی بڑھی ہے
 (C) ملک میں خواندگی بڑھی ہے
 (D) ان میں سے سبھی

68. نرسری اسکول کی شروعات کس نے کی تھی۔
 (A) ڈالٹن
 (B) جان ڈیوی
 (C) فروبیل
 (D) اینی بیسنٹ
69. بچوں کا سب سے پہلا معلم کون ہوتا ہے۔
 (A) وہ خود
 (B) ان کا ماحول
 (C) ان کے والدین
 (D) استاد
70. چھوٹے بچوں کے لیے تعلیم کا ذریعہ ہونا چاہیے۔
 (A) مادری زبان
 (B) انگریزی زبان
 (C) علاقائی زبان
 (D) قومی زبان

عمومی ذہنی آزمائش - (General Mental Ability)

71. 11, 13, 17 31 41
 (A) 19
 (B) 23
 (C) 25
 (D) یہ سبھی
72. 6, 10, 8, 10, 20, 14, 18, 24,
 (A) 28
 (B) 26
 (C) 21
 (D) 20
73. 2, 3, 4, 6, 6, 9, 8, 12, 10, 15
 (A) 13
 (B) 12
 (C) 18
 (D) 20
74. 14, 14, 26, 26, 38, 38, 50, ,
 (A) 62, 74
 (B) 50, 62
 (C) 60, 72
 (D) 50, 72
75. B, D, G, K, V.
 (A) Q
 (B) O
 (C) P
 (D) N

	MR, PO, SL, VI76
ZF (B	ZE (A	
YF (D	YE (C	
	JAK, KBL, LCM, MDN,77
NEO (B	NFO (A	
NEQ (D	NEM (C	
	ELFA, GLHA, ILJA,, MLNA	.78
OLPA (B	LLMA (A	
KLMA (D	KLLA (C	
	--- --- aba --- --- ba ---- ab	.79
abbab (B	abbba (A	
bbaba (D	baabb (C	
	b a __ b __ a a b __ a __ b	.80
abba (B	abba (A	
babb (D	baab (C	
	ACEG : DFHJ :: QSUW	.81
MNPR (B	KMNP (A	
TVXZ (D	TQST (C	
	16:64::25:82
75 (B	50 (A	
125 (D	115 (C	
	5004 ÷ 139 - 6 =83
30 (B	24 (A	
42 (D	36 (C	

84. حیدرآباد: تلنگانہ :: گنگوٹک

- (A) ارونا چل پریش
(B) میگھالیہ
(C) سکم
(D) آسام

85. $864 \div ? \div 9 = 3$

- (A) 39
(B) 21
(C) 36
(D) 32

86. ایک عدد کے 4 گنا سے 5 گنا کم کر دیا جائے تو وہ 19 کے مساوی ہوگا تو وہ عدد

- (A) 6
(B) 9
(C) 19
(D) 24

87. $\left(\frac{-3}{8}\right)\left(\frac{-7}{13}\right)$ کا مقلوب

- (A) $\frac{104}{21}$
(B) $\frac{-104}{21}$
(C) $\frac{21}{104}$
(D) $\frac{-21}{104}$

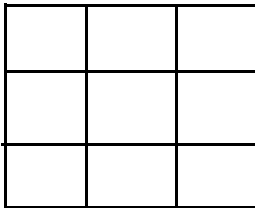
88. $(-1)^{2018} + (-1)^{2019}$ کی قدر

- (A) 1
(B) 0
(C) -2
(D) 4037

89. کسی علامتی نظام میں Throw away garbage کو '975' سے Give Away Smoking کو '528' سے اور Smoking is Harmful کو '213' سے ظاہر کیا جائے تو 'Smoking' کا کوڈ کیا ہوگا؟

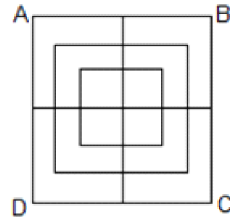
- (A) 2
(B) 3
(C) 5
(D) 8

90. دی گئی شکل میں کتنے مربع ہیں:



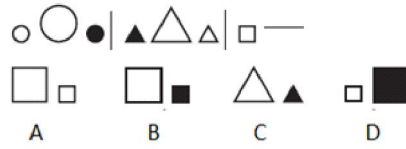
- (A) 9
(B) 10
(C) 14
(D) 18

91. دی گئی شکل میں کتنے مربعے ہیں؟



- 15 (B)
- 18 (D)

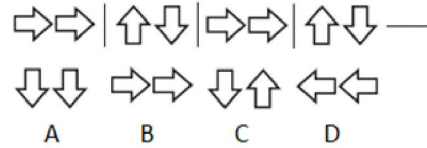
- 14 (A)
- 16 (C)



92

- A (B)
- C (D)

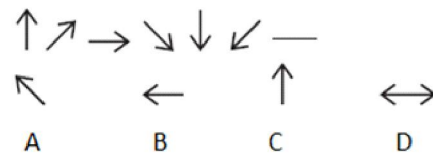
- B (A)
- D (C)



93

- D (B)
- A (D)

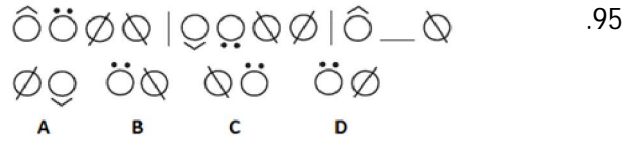
- C (A)
- B (C)



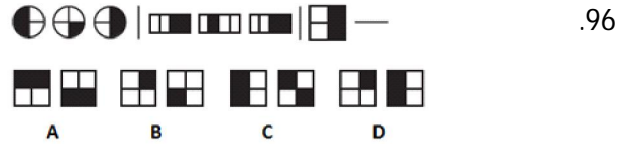
94

- C (B)
- B (D)

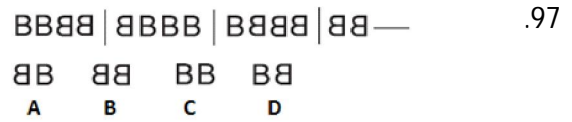
- D (A)
- A (C)



- B (B) D (A)
C (D) A (C)

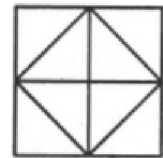


- C (B) B (A)
A (D) D (C)



- D (B) C (A)
B (D) A (C)

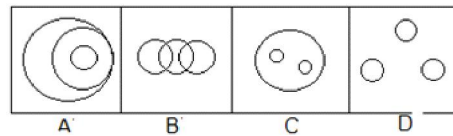
دی گئی تصویر میں مثلث کی تعداد کیا ہے؟



.98

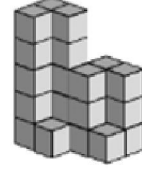
- 10 (B) 8 (A)
14 (D) 12 (C)

.99 CAR, BUS اور BRAKE ان کو ظاہر کرنے والی شکل کون سی ہے۔



- C (B) B (A)
A (D) D (C)

دی گئی تصویر میں کیوب (Cubes) کی تعداد کیا ہے؟



.100

24 (B)

18 (A)

28 (D)

26 (C)

☆☆☆